



EL
SOL

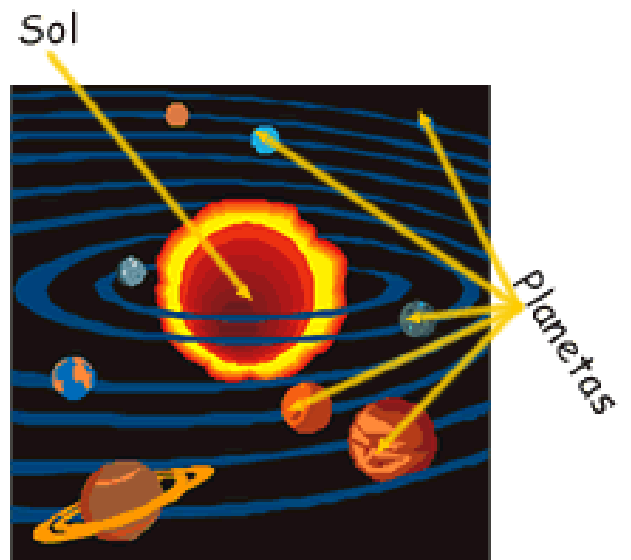

LA
LUNA

LA
TIERRA

El Sistema solar


● El **Sistema Solar** está formado por el Sol, los planetas, satélites y una gran multitud de cuerpos más pequeños: los asteroides, cometas ...

● Todos estos cuerpos celestes que forman el sistema solar se llaman **astros**.



El sol

- ☀ **El Sol** es la estrella que da a la Tierra luz y calor.
- ☀ Alrededor del Sol giran todos los astros que forman el sistema solar.




La Tierra

- 🌍 La tierra es planeta en el que vivimos .
- 🌍 Tiene oxígeno y agua para poder vivir.
- 🌍 Desde el espacio se ve de color azul porque está formada en su mayor parte por el agua de los océanos y mares
- 🌍 La Tierra gira alrededor de sí misma. Por eso existe el día y la noche
- 🌍 La tierra gira también alrededor del sol y por eso existen las estaciones



La luna




- Es el satélite de la Tierra y gira alrededor de ella
- No tiene luz propia, refleja la luz del sol

FASES DE LA LUNA

- La Luna tarda alrededor de 27 días, casi un mes, en dar una vuelta alrededor de la Tierra.
- Algunas noches la vemos toda iluminada; y la llamamos Luna Llena. Son los días de Luna Llena.

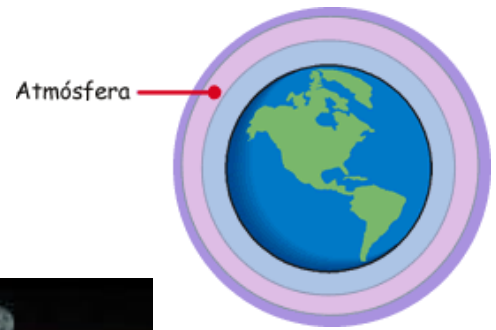


- Después, la cara de la Luna se va ocultando poco a poco; la llamamos entonces **Luna Menguante**
- Cuando la Luna desaparece de nuestra vista la llamamos **Luna Nueva**, pues va a comenzar un nuevo ciclo.
- Y cuando la Luna va apareciendo de nuevo, se le llama **Luna Creciente**.



Por eso se habla de 4 fases de la Luna.

Las capas de la tierra



Atmósfera

- Es la capa de aire que envuelve y protege a la tierra



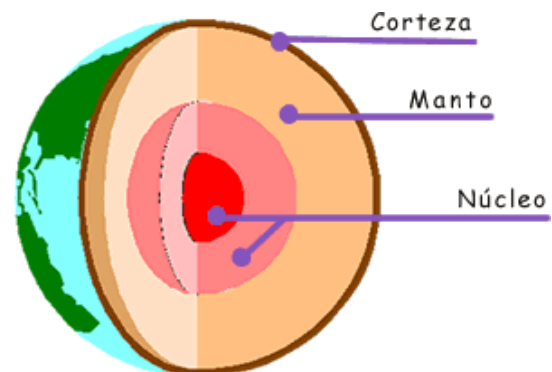
Hidrosfera

- Está formada por todas las aguas de la tierra: océanos, ríos, lagos y hielos polares.



Geosfera

- Está formada por las rocas de la superficie y del interior de la tierra



Biosfera

- Es la capa en la que viven todos los seres vivos



ACTIVIDADES

- ✘ Mira la foto y completa.
- ✘ Busca el sol, la luna y la tierra y escribe su nombre en el dibujo



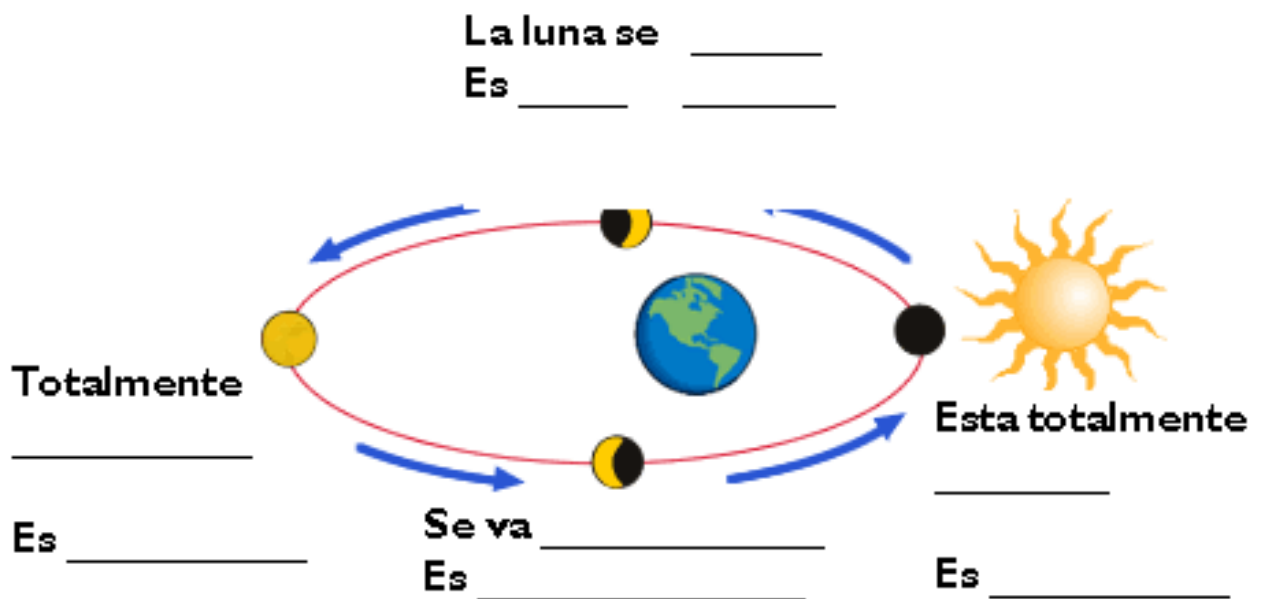
- Es el _____
- Está formado por _____

- Escribe el nombre de los planetas

- La estrella que ilumina y calienta a la tierra es _____
- El planeta en el que vivimos es la _____

- En la tierra hay _____ y _____ para poder vivir
- La tierra gira _____ , por eso existe el _____ y la _____
- La tierra gira _____ , por eso existen las _____ del año
- El satélite de la tierra es la _____
- La luna gira _____ de la _____
- La luna tiene _____ fases: _____

Completa el cuadro de las fases lunares



✘ Observa a la luna durante un mes y dibuja



Abril 2007						
Lun	Mar	Mie	Jue	Vie	Sab	Dom
						<u>1</u>
<u>2</u>	<u>3</u>	<u>4</u>	<u>5</u>	<u>6</u>	<u>7</u>	<u>8</u>
<u>9</u>	<u>10</u>	<u>11</u>	<u>12</u>	<u>13</u>	<u>14</u>	<u>15</u>
<u>16</u>	<u>17</u>	<u>18</u>	<u>19</u>	<u>20</u>	<u>21</u>	<u>22</u>
<u>23</u>	<u>24</u>	<u>25</u>	<u>26</u>	<u>27</u>	<u>28</u>	<u>29</u>
<u>30</u>						



Mayo 2007

Lun	Mar	Mie	Jue	Vie	Sab	Dom
	<u>1</u>	<u>2</u>	<u>3</u>	<u>4</u>	<u>5</u>	<u>6</u>
<u>7</u>	<u>8</u>	<u>9</u>	<u>10</u>	<u>11</u>	<u>12</u>	<u>13</u>
<u>14</u>	<u>15</u>	<u>16</u>	<u>17</u>	<u>18</u>	<u>19</u>	<u>20</u>
<u>21</u>	<u>22</u>	<u>23</u>	<u>24</u>	<u>25</u>	<u>26</u>	<u>27</u>
<u>28</u>	<u>29</u>	<u>30</u>	<u>31</u>			

✘ Completa

- La tierra está formada por _____ capas.
- Se llaman _____,
_____ y _____
- La atmósfera es _____
- La hidrosfera es _____
- La geosfera es _____
- La biosfera es _____

✘ Une con flechas

ATMÓSFERA

Son las rocas que forman la tierra

HIDROSFERA

Es la capa donde viven los seres vivos

GEOSFERA

Es la capa de aire que envuelve a la tierra

BIOSFERA

Son los océanos, ríos, lagos...

✘ Ahora une con el dibujo correspondiente

ATMÓSFERA



AGUA

HIDROSFERA




SERES VIVOS

GEOSFERA



AIRE

BIOSFERA



ROCAS

✘ Pon el nombre de las partes de la geosfera

