

NOMBRE:..... NIVEL:.....

FECHA:.....

1.- Un camión. lleva 183 sacos de millo. Luego, en un almacén le cargan otros 65 sacos de millo. ¿Cuántos sacos de millo lleva ahora el camión?.

DATOS QUE ME DAN:.....

OPERACIÓN:.....

SOLUCIÓN:.....

2.- Un camello pesa 685 kilos. Un hombre pesa 74 kilos. ¿Cuántos kilos pesará el camello con el hombre encima?.

DATOS QUE ME DAN:.....

OPERACIÓN:.....

SOLUCIÓN:.....

3.- En un monte habla 567 pinos canarios. Luego se plantaron 123 pinos canarios. ¿Cuántos pinos canarios hay ahora en el monte?.

DATOS QUE ME DAN:.....

OPERACIÓN:.....

SOLUCIÓN:.....

4.- Compré unos guantes por 518 pesetas y un pañuelo por 137 pesetas. ¿Cuánto tuve que pagar?.

DATOS QUE ME DAN:.....

OPERACIÓN:.....

SOLUCIÓN:.....

5.- En una granja hay 274 gallinas y 158 patos, ¿cuántos animales hay?.

DATOS QUE ME DAN:.....

OPERACIÓN:.....

SOLUCIÓN:.....

6.- Un grupo de niños ha ayudado a los jardineros a plantar árboles en el parque. Han plantado 149 pinos y 182 acacias. ¿Cuántos árboles han plantado?.

DATOS QUE ME DAN:.....

OPERACIÓN:.....

SOLUCIÓN:.....

7.- Si en un depósito de gasolina hay 36 litros y se introducen 125 litros, ¿cuántos hay ahora?.

DATOS QUE ME DAN:.....

OPERACIÓN:.....

SOLUCIÓN:.....

8.- En un corral había 230 gallinas y 75 pollos. ¿Cuántos animales había entre todos?.

DATOS QUE ME DAN:.....

OPERACIÓN:.....

SOLUCIÓN:.....

9.- A un colegio de Primaria asisten 426 niños y 388 niñas. ¿Cuántos alumnos hay en el colegio en total?.

DATOS QUE ME DAN:.....

OPERACIÓN:.....

SOLUCIÓN:.....

10.- Un limonero dio el año pasado 337 limones y este año 99. ¿Cuántos limones ha dado en total?.

DATOS QUE ME DAN:.....

OPERACIÓN:.....

SOLUCIÓN:.....

11.- En un garaje hay 279 coches. Hoy han metido 99 más. ¿Cuántos hay ahora?.

DATOS QUE ME DAN:.....

OPERACIÓN:.....

SOLUCIÓN:.....

12.- En un jardín hay 898 macetas. Se planta 555 más. ¿Cuántas hay ahora?.

DATOS QUE ME DAN:.....

OPERACIÓN:.....

SOLUCIÓN:.....

13.- En un jardín hay 3.478 árboles que han florecido y 39 que aún no tienen flores. ¿Cuántos árboles tiene el jardín?.

DATOS QUE ME DAN:.....

OPERACIÓN:.....

SOLUCIÓN:.....

14.- Un libro que costaba 348 pesetas ha aumentado su precio en 137 pesetas. ¿Cuál es el nuevo precio?.

DATOS QUE ME DAN:.....

OPERACIÓN:.....

SOLUCIÓN:.....

15.- Dentro de 48 años, ¿en qué año estaremos?.

DATOS QUE ME DAN:.....

OPERACIÓN:.....

SOLUCIÓN:.....

16.- Una pieza de tela mide 90 cm, otra pieza mide 85 cm y otra 100 cm, ¿cuántos metros hay en las tres piezas?.

DATOS QUE ME DAN:.....

OPERACIÓN:.....

SOLUCIÓN:.....

17.- Saqué de una piña 68 piñones, de otra 56 y de una tercera 74 piñones. ¿Cuántos piñones reuní?.

DATOS QUE ME DAN:.....

OPERACIÓN:.....

SOLUCIÓN:.....

18.- Eduardo ha ganado 620 pesetas el jueves, 710 el viernes y el sábado 520. ¿Cuánto va a cobrar entre los tres días?.

DATOS QUE ME DAN:.....

OPERACIÓN:.....

SOLUCIÓN:.....

19.- El Ayuntamiento ha arreglado una calle de 157 metros, otra de 39 metros y una tercera de 345 metros. ¿Cuántos metros de calle ha arreglado?.

DATOS QUE ME DAN:.....

OPERACIÓN:.....

SOLUCIÓN:.....

20.- En un campo se plantaron un día 136 árboles, el siguiente 207 y otro día 349 árboles. ¿Cuántos se plantaron en total?.

DATOS QUE ME DAN:.....

OPERACIÓN:.....

SOLUCIÓN:.....

21.- En un camping hay 428 hombres, 325 mujeres y 128 niños. ¿Cuántas personas hay en el camping?.

DATOS QUE ME DAN:.....

OPERACIÓN:.....

SOLUCIÓN:.....

22.- Laura compra 2 cuentos. Uno vale 175 pesetas y el otro 132 pesetas. Si le sobraron 34 pesetas, ¿cuánto dinero tenía Laura?.

DATOS QUE ME DAN:.....

OPERACIÓN:.....

SOLUCIÓN:.....

23.- Una señora hizo una compra de 2.785 pesetas. Si le quedaron 2.242 pesetas, ¿cuánto dinero tenía antes de hacer la compra?.

DATOS QUE ME DAN:.....

OPERACIÓN:.....

SOLUCIÓN:.....

24.- Papá compró un molinillo de café que vale 1.200 pesetas, una batidora que vale 2.985 pesetas y una tostadora de pan de 2.872 pesetas. ¿Cuánto gastó en total?.

DATOS QUE ME DAN:.....

OPERACIÓN:.....

SOLUCIÓN:.....

25.- En el supermercado, el Sr. López ha gastado 1.215 pesetas, en la papelería 256 pesetas y en la droguería 956 pesetas. ¿Cuánto ha gastado en total?.

DATOS QUE ME DAN:.....

OPERACIÓN:.....

SOLUCIÓN:.....

26.- He ido a comprar al mercado. Compré 1 kilo de naranjas a 30 pesetas, un kilo de azúcar a 34 pesetas, una tableta de chocolate a 42 pesetas. Cuando vuelvo a casa tengo 127 pesetas. ¿Cuánto dinero tenía antes de comprar?.

DATOS QUE ME DAN:.....

OPERACIÓN:.....

SOLUCIÓN:.....

27.- La tela de un colchón cuesta 324 pesetas; la lana 1.258 pesetas y el forro 196 pesetas. ¿Cuánto costará todo el colchón si por confeccionarlo cobran 100 pesetas?.

DATOS QUE ME DAN:.....

OPERACIÓN:.....

SOLUCIÓN:.....

28.- Una persona gasta en el mercado 350 pesetas en carne, 250 pesetas en fruta, 180 pesetas en aceite, 245 pesetas en queso y 186 pesetas en verdura. ¿Cuántas pesetas gastó en el mercado?.

DATOS QUE ME DAN:.....

OPERACIÓN:.....

SOLUCIÓN:.....

29.- Mi mamá compró un mueble bar de 3.760 pesetas. Una mesa de formica de 2.845 pesetas. Una librería de 18.525 pesetas. ¿cuánto importó todo?.

DATOS QUE ME DAN:.....

OPERACIÓN:.....

SOLUCIÓN:.....

30.- Una cama cuesta 28.698 pesetas, una silla 6.397 pesetas y un armario 28.458 pesetas. ¿Cuánto hay que pagar si se compran las tres cosas?.

DATOS QUE ME DAN:.....

OPERACIÓN:.....

SOLUCIÓN:.....

31.- Un camión llevaba una carga de 6.000 kg. Después cogió dos cajas que pesaban una, 70 kg. y la otra 9 kg. ¿Cuántos kg. de carga llevaba el camión?.

DATOS QUE ME DAN:.....

OPERACIÓN:.....

SOLUCIÓN:.....

32.- Fernando tiene 148 cromos. Felipe tiene 207 y Pablo tiene tantos como Fernando y Felipe juntos. ¿Cuántos cromos tienen entre los tres?.

DATOS QUE ME DAN:.....

OPERACIÓN:.....

SOLUCIÓN:.....

33.- Ana tenía que hacer la suma $2.346 + 428$. Se confundió en la colocación de los sumandos y sumó así:

$$\begin{array}{r} 2346 \\ +428 \\ \hline 6626 \end{array}$$

¿Qué número sumó Ana en realidad?

Haz bien la suma que debía hacer Ana.

34.- Compré una barrica de 127 litros de vino. También compré otra barrica de 215 litros de vino.
¿Cuántos litros de vino compré?

DATOS QUE ME DAN:.....

OPERACIÓN:.....

SOLUCIÓN:.....

35.- Mi hermano ha comprado una bicicleta por 16.735 pesetas; ha gastado además 1.475 pesetas en accesorios. Quiere venderla y ganar 2.000 pesetas. ¿A qué precio tendrá que venderla?

DATOS QUE ME DAN:.....

OPERACIÓN:.....

SOLUCIÓN:.....

NOMBRE:..... NIVEL:.....

FECHA:.....

1. Una pelota cuesta 125 pesetas y un peine 35 pesetas. ¿Cuánto cuesta el peine menos que la pelota?.

DATOS QUE ME DAN:.....

OPERACIÓN:.....

SOLUCIÓN:.....

2. Dos cestas de carbón pesan en la báscula 110 kg. Si una cesta pesa 45 kg., ¿cuánto pesará la otra?.

DATOS QUE ME DAN:.....

OPERACIÓN:.....

SOLUCIÓN:.....

3. Lee lo que dice la envoltura de la lata de sardinas:

Peso neto 125 gramos.

Peso bruto 150 gramos.

¿Cuánto pesa el aceite y las sardinas que hay en la lata?. ¿Cuánto pesa la lata?.

DATOS QUE ME DAN:.....

OPERACIÓN:.....

SOLUCIÓN:.....

4. En un garaje hay 250 coches entre los cuales hay 100 averiados. ¿Cuántos coches hay en buen estado?.

DATOS QUE ME DAN:.....

OPERACIÓN:.....

SOLUCIÓN:.....

5. Mario está leyendo un libro que tiene 218 páginas. Ha leído ya 135 páginas. ¿Cuántas páginas le faltan por leer?.

DATOS QUE ME DAN:.....

OPERACIÓN:.....

SOLUCIÓN:.....

6. En un estanque había 295 peces. 89 han muerto por contaminación del agua. ¿Cuántos peces vivos quedan?.

DATOS QUE ME DAN:.....

OPERACIÓN:.....

SOLUCIÓN:.....

7. Un rollo de cable de teléfonos tiene 475 metros. Cortamos 146 metros de cable. ¿Cuántos metros tiene ahora el rollo de cable?.

DATOS QUE ME DAN:.....

OPERACIÓN:.....

SOLUCIÓN:.....

8. Un caballo con un hombre montado pesa 449 kilos. El hombre pesa 82 kilos. ¿Cuántos kilos pesa el caballo?.

DATOS QUE ME DAN:.....

OPERACIÓN:.....

SOLUCIÓN:.....

9. Dos raquetas y una pelota valen 421 pesetas. Las raquetas valen 346 pesetas. ¿Cuánto vale la pelota?.

DATOS QUE ME DAN:.....

OPERACIÓN:.....

SOLUCIÓN:.....

10. En un monte había 473 pinos canarios. Luego, se plantaron algunos pinos canarios más. Ahora, hay en el monte 620 pinos canarios. ¿Cuántos pinos canarios se plantaron?.

DATOS QUE ME DAN:.....

OPERACIÓN:.....

SOLUCIÓN:.....

11. En la fiesta de la Cometa participaron 662 personas. 365 personas eran mujeres. ¿Cuántas personas eran hombres?

DATOS QUE ME DAN:.....

OPERACIÓN:.....

SOLUCIÓN:.....

12. Un pintor tiene que pintar 735 cuadros. Si ya ha pintado 130, ¿cuántos le faltan por pintar?

DATOS QUE ME DAN:.....

OPERACIÓN:.....

SOLUCIÓN:.....

13. Este camión transporta 750 litros de gasolina; si en la gasolinera descargó 327 litros, ¿cuántos litros quedarán?

DATOS QUE ME DAN:.....

OPERACIÓN:.....

SOLUCIÓN:.....

14. Mi colección de sellos tiene 756 sellos. Si doy a mi amigo 447, ¿cuántos me quedarán?

DATOS QUE ME DAN:.....

OPERACIÓN:.....

SOLUCIÓN:.....

15. En un colegio hay 750 niños. Si se enferman 50, ¿cuántos vendrán al colegio?

DATOS QUE ME DAN:.....

OPERACIÓN:.....

SOLUCIÓN:.....

16. En un garaje hay 728 coches. Si han salido 345 coches, ¿cuántos faltan por salir?

DATOS QUE ME DAN:.....

OPERACIÓN:.....

SOLUCIÓN:.....

17. En un bosque hay 900 pinos. Si cortan 300 pinos, ¿cuántos quedan?.

DATOS QUE ME DAN:.....

OPERACIÓN:.....

SOLUCIÓN:.....

18. Gasté en un viaje 900 pesetas. 650 en gasolina y el resto en comida, ¿cuánto me costó la comida?.

DATOS QUE ME DAN:.....

OPERACIÓN:.....

SOLUCIÓN:.....

19. En la hucha tengo 830 pesetas; para llegar a 1.000 pesetas, ¿cuántas me faltan?.

DATOS QUE ME DAN:.....

OPERACIÓN:.....

SOLUCIÓN:.....

20. Un pescador pescó 1.000 sardinas, si vendió 840 piezas, ¿cuántas le quedaron sin vender?.

DATOS QUE ME DAN:.....

OPERACIÓN:.....

SOLUCIÓN:.....

21. He comprado unos patines que costaban 836 pesetas. Si tenía 1.000 pesetas, ¿Cuánto dinero me queda?.

DATOS QUE ME DAN:.....

OPERACIÓN:.....

SOLUCIÓN:.....

22. Un tendero tiene 982 camisas. Una semana vendió 308 camisas y a la semana siguiente vendió 437 camisas. ¿Cuántas camisas le quedarán en la tienda la primera semana?. ¿Cuántas camisas le quedarán al final?.

DATOS QUE ME DAN:.....

OPERACIÓN:.....

SOLUCIÓN:.....

23. La diferencia entre dos números es 897. Si el minuendo es 1.247, ¿cuál es el sustraendo?.

DATOS QUE ME DAN:.....

OPERACIÓN:.....

SOLUCIÓN:.....

24. Jorge tiene 1.500 pesetas y compró un balón que vale 975 pesetas. ¿Cuanto dinero le sobra?.

DATOS QUE ME DAN:.....

OPERACIÓN:.....

SOLUCIÓN:.....

25. Un edificio fue construido en 1738, ¿cuántos años hace que lo construyeron?.

DATOS QUE ME DAN:.....

OPERACIÓN:.....

SOLUCIÓN:.....

26. Colón descubrió América en 1492. ¿Cuántos años han pasado desde entonces?.

DATOS QUE ME DAN:.....

OPERACIÓN:.....

SOLUCIÓN:.....

27. Tenía 2 billetes de 1.000 pesetas para comprarme un abrigo de 3.500, ¿cuánto me falta?.

DATOS QUE ME DAN:.....

OPERACIÓN:.....

SOLUCIÓN:.....

28. Un comerciante compra una lámpara por 2.740 pesetas y la vende por 3.970 pesetas. ¿Cuál es la ganancia?.

DATOS QUE ME DAN:.....

OPERACIÓN:.....

SOLUCIÓN:.....

29. El Sr. Linares salió de viaje con 2.600 pesetas. Gasta en la comida 285 pesetas. ¿Cuánto dinero le queda?.

DATOS QUE ME DAN:.....

OPERACIÓN:.....

SOLUCIÓN:.....

30. Un ganadero tenía 3.500 vacas y vendió 678. ¿Cuántas vacas le quedan?.

DATOS QUE ME DAN:.....

OPERACIÓN:.....

SOLUCIÓN:.....

31. Los picos más altos de España son: El Teide, que mide 3.700 metros y El Mulhacén, 3.481 metros. ¿Cuántos metros mide uno más que el otro?.

DATOS QUE ME DAN:.....

OPERACIÓN:.....

SOLUCIÓN:.....

32. Entre cinco colegios de La Laguna hay 4.286 alumnos, de los cuales 2.152 son niñas. ¿Cuántos niños hay?

DATOS QUE ME DAN:.....

OPERACIÓN:.....

SOLUCIÓN:.....

33. Mamá va a la compra. Tenía 5.950 pesetas y gasta 3.724 pesetas, ¿cuánto le ha quedado?.

DATOS QUE ME DAN:.....

OPERACIÓN:.....

SOLUCIÓN:.....

34.- Un pueblo de Tenerife tiene 7.856 habitantes mayores de edad, de ellos 4.811 son mujeres, ¿cuántos hombres hay en el pueblo?.

DATOS QUE ME DAN:.....

OPERACIÓN:.....

SOLUCIÓN:.....

35. El Sr. López vende pasteles y ha cobrado 8.257 pesetas. Los pasteles vendidos le costaron 6.250 pesetas, ¿cuánto ha ganado?.

DATOS QUE ME DAN:.....

OPERACIÓN:.....

SOLUCIÓN:.....




36. Una señora ha comprado una nevera por valor de 35.000 pesetas. Da una entrada de 6.435 pesetas. ¿Cuánto dinero le queda por pagar?.

DATOS QUE ME DAN:.....

OPERACIÓN:.....

SOLUCIÓN:.....

37. Las cantidades indican el peso total de cada avión.



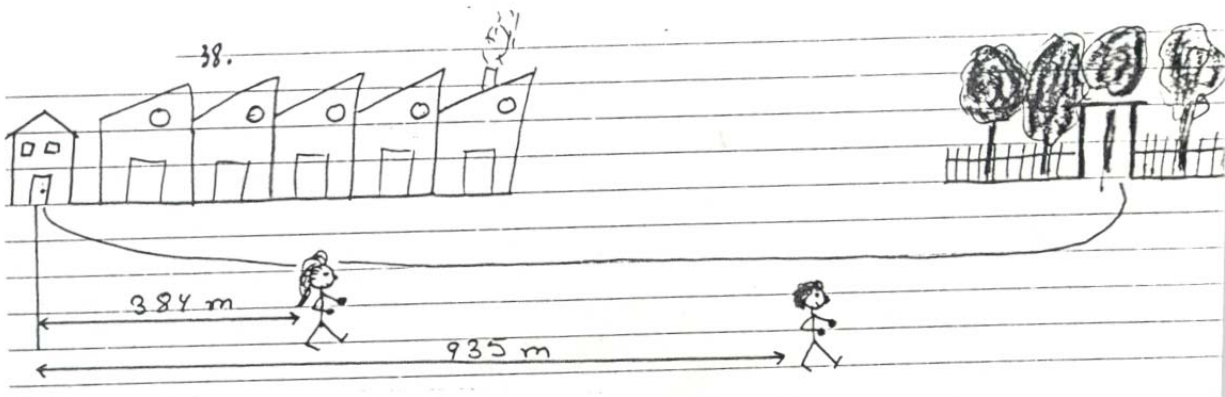
Averigua la diferencia de peso entre:
primero y el segundo
tercero y el segundo
primero y el tercero

DATOS QUE ME DAN:.....

OPERACIÓN:.....

SOLUCIÓN:.....

38.




Los hermanos María y Damián van al parque, pero no salen a la vez de su casa. Averigua cuántos metros lleva andados Damián más que María.

DATOS QUE ME DAN:.....

OPERACIÓN:.....

SOLUCIÓN:.....

39.



El depósito A tiene 750 litros más que el B. Si de cada uno se sacan 270 litros, ¿cuántos litros tendrá ahora el depósito A más que el B?

DATOS QUE ME DAN:.....

OPERACIÓN:.....

SOLUCIÓN:.....

40. En una sala de cine había 265 espectadores viendo una película. En el descanso entran algunos espectadores más. Al final de la película había en la sala 324 espectadores. ¿Cuántos espectadores entraron en el descanso?

DATOS QUE ME DAN:.....

OPERACIÓN:.....

SOLUCIÓN:.....

41. Lee y resuelve: al hacer la resta $3.748 - 271$, Pedro se confundió y la hace así:

$$\begin{array}{r} 3748 \\ - 271 \\ \hline 1038 \end{array}$$

¿Qué número ha restado Pedro?
Haz bien la resta propuesta.

NOMBRE:..... NIVEL:.....

FECHA:.....

1. Juan tiene 85 pesetas y se ha comprado una chocolatina que le costó 35 pesetas y unos caramelos que le costaron 25 pesetas. ¿Podrá Juan comprar un pito que le cuesta 20 pesetas?.

DATOS QUE ME DAN:.....

OPERACIÓN:.....

SOLUCIÓN:.....

2. Compró un bote de mermelada de 52 pesetas y una lata de sardinas de 36. ¿Cuánto gastó?. Si pagó con una moneda de 100 pesetas, ¿cuánto le devolvieron? .

DATOS QUE ME DAN:.....

OPERACIÓN:.....

SOLUCIÓN:.....

3. Tenía 95 pesetas. Compré un balón de 68 pesetas y un chocolate de 24 pesetas. ¿cuántas pesetas me sobraron?.

DATOS QUE ME DAN:.....

OPERACIÓN:.....

SOLUCIÓN:.....

4. Germán tiene 12 cromos y Luis tiene 17. ¿Cuántos tienen entre los dos?. ¿Cuántos cromos tiene Luis más que Germán?.

DATOS QUE ME DAN:.....

OPERACIÓN:.....

SOLUCIÓN:.....

5. En un cine hay 54 hombres, 74 mujeres y 15 niños. ¿Cuántas butacas se han ocupado si el cine tiene 300 butacas?. ¿Cuántas han quedado libres?.

DATOS QUE ME DAN:.....

OPERACIÓN:.....

SOLUCIÓN:.....

6. En el cuartel hay 426 soldados. Han llegado 318 soldados más y se han ido 25. ¿Cuántos hay ahora?.

DATOS QUE ME DAN:.....

OPERACIÓN:.....

SOLUCIÓN:.....

7. El Sr. Linares salió de viaje con 3.540 pesetas, gastó 525 pesetas en un regalo para su mujer y 1.285 pesetas en gasolina. ¿Cuánto dinero le quedó?

DATOS QUE ME DAN:.....

OPERACIÓN:.....

SOLUCIÓN:.....

8. A una niña por su cumpleaños le regalan dinero, su padre le da 100 pesetas, su madre 50 pesetas, su abuela 80 pesetas. Si se compra un chocolate que le cuesta 65 pesetas, ¿cuánto le queda?.

DATOS QUE ME DAN:.....

OPERACIÓN:.....

SOLUCIÓN:.....

9. Una señora va a la tienda y se gasta 90 pesetas en chorizo, 150 pesetas en jamón y 163 en salchichón. ¿Cuánto dinero se ha gastado? Si tenía 450 pesetas, ¿cuánto dinero le ha sobrado?.

DATOS QUE ME DAN:.....

OPERACIÓN:.....

SOLUCIÓN:.....

10. Pepito fue a la feria con 125 pesetas y Antonio tenía 32 pesetas menos que Pepito. ¿Cuánto dinero tenía Antonio?. ¿Cuántas pesetas tenían entre los dos?.

DATOS QUE ME DAN:.....

OPERACIÓN:.....

SOLUCIÓN:.....

11. Me mandaron comprar chocolate, galletas y vino. El chocolate cuesta 86,50 pesetas. Las galletas cuestan 93 pesetas y el vino 72 pesetas. Me dieron una moneda de 200 pesetas para pagar, ¿cuánto dinero me falta?

DATOS QUE ME DAN:.....

OPERACIÓN:.....

SOLUCIÓN:.....

12. Un sombrero vale 30 pesetas, unas gafas 60 y un pito 50 pesetas. Si pago con 250 pesetas. ¿Cuánto me sobra?

DATOS QUE ME DAN:.....

OPERACIÓN:.....

SOLUCIÓN:.....

13. Juan tiene 475 pesetas. Se gasta 48 en un cuaderno y su tío le regala 100 pesetas. ¿Cuántas pesetas tiene al final?

DATOS QUE ME DAN:.....

OPERACIÓN:.....

SOLUCIÓN:.....

14. Regalé a un hermano un libro de cuentos de 150 pesetas y una caja de bombones de 175. Pagué con 500 pesetas, ¿cuánto me devolvieron?

DATOS QUE ME DAN:.....

OPERACIÓN:.....

SOLUCIÓN:.....

15. Un rebaño consta de 180 ovejas de las cuales se venden 50 y unos lobos asaltan el redil dejando vivas 118 ovejas. ¿Cuántas ovejas mataron los lobos?

DATOS QUE ME DAN:.....

OPERACIÓN:.....

SOLUCIÓN:.....

16. La Sra. Ruiz va al mercado. Al salir de casa lleva 9.195 pesetas. Gasta 2.648 pesetas en carne y pescado y 1.815 pesetas en fruta y verdura. ¿Cuánto dinero le queda?.

DATOS QUE ME DAN:.....

OPERACIÓN:.....

SOLUCIÓN:.....

17. Sale de casa a las 9 y media y regresa a la 1 y media. Después sale a las 3 y vuelve a las 6. ¿Cuántas horas está fuera de casa?.

DATOS QUE ME DAN:.....

OPERACIÓN:.....

SOLUCIÓN:.....

18. El depósito de un coche contiene 15 litros de gasolina. Antes de salir de viaje se le echan 25 litros. Al final del recorrido le sobran 3 litros. ¿Cuántos litros ha gastado?.

DATOS QUE ME DAN:.....

OPERACIÓN:.....

SOLUCIÓN:.....

19. Esther sacó un libro de 185 páginas de la biblioteca de la escuela. Durante la primera semana leyó 73 páginas y durante la segunda semana leyó 42 páginas. ¿Cuántas páginas tiene todavía que leer?.

DATOS QUE ME DAN:.....

OPERACIÓN:.....

SOLUCIÓN:.....

20. Compré un libro por 250 pesetas, un cuaderno por 42 pesetas y una carpeta cuyo precio no recuerdo. Las tres cosas me costaron 367 pesetas. ¿Cuánto me costo la carpeta?.

DATOS QUE ME DAN:.....

OPERACIÓN:.....

SOLUCIÓN:.....

21. En un avión viajan 350 personas, bajan en un aeropuerto 127 personas y suben 148 personas. ¿Con cuántos viajeros sale el avión de aeropuerto?.

DATOS QUE ME DAN:.....

OPERACIÓN:.....

SOLUCIÓN:.....

22. Mi mamá, sacó de casa un billete de 5.000 pesetas para pagar las siguientes facturas: 1.207,55 pesetas al carnicero, 846,35 al panadero, 1.705,25 al pescadero y 685 pesetas al frutero, ¿con cuánto volvió?.

DATOS QUE ME DAN:.....

OPERACIÓN:.....

SOLUCIÓN:.....

23. En las carreras de caballos un espectador apostó a las 5 carreras y los resultados fueron los siguientes: en la primera perdió 350 pesetas, en la segunda perdió 600 ptas., en la tercera ganó 400 ptas., en la cuarta perdió 600 ptas. y en la quinta ganó 1.100 ptas. ¿cuál fue el resultado final de sus apuestas?.

DATOS QUE ME DAN:.....

OPERACIÓN:.....

SOLUCIÓN:.....

NOMBRE:..... NIVEL:.....

FECHA:.....

1. Un niño ha leído 4 libros de 200 páginas cada uno, ¿cuántas páginas ha leído en total?.

DATOS QUE ME DAN:.....

OPERACIÓN:.....

SOLUCIÓN:.....

2. Un avión va 9 veces de Tenerife a Madrid con 258 pasajeros en cada viaje, ¿cuántos pasajeros transporta?.

DATOS QUE ME DAN:.....

OPERACIÓN:.....

SOLUCIÓN:.....

3. En un país nacen 8 niños por minuto, ¿cuántos niños nacen por hora?. ¿Cuántos nacen por año?.

DATOS QUE ME DAN:.....

OPERACIÓN:.....

SOLUCIÓN:.....

4. Un mecanógrafo escribe 208 folios cada semana, ¿cuántos folios escribe en 6 semanas?.

DATOS QUE ME DAN:.....

OPERACIÓN:.....

SOLUCIÓN:.....

5. Una camioneta lleva 2 cubas de vino de 324 litros cada una, ¿cuántos litros hay entre las dos cubas?.

DATOS QUE ME DAN:.....

OPERACIÓN:.....

SOLUCIÓN:.....

6. El contorno de una rueda de bicicleta tiene aproximadamente 142 cm de longitud. Si la rueda ha dado 4 vueltas, ¿cuántos cm ha recorrido?.

DATOS QUE ME DAN:.....

OPERACIÓN:.....

SOLUCIÓN:.....

7. Una pelota vale 360 pesetas, ¿cuánto valen 150 pelotas?.

DATOS QUE ME DAN:.....

OPERACIÓN:.....

SOLUCIÓN:.....

8. En una granja se producen diariamente 1.740 huevos, ¿cuántos huevos se producirán en 4 meses (de 30 días)?.

DATOS QUE ME DAN:.....

OPERACIÓN:.....

SOLUCIÓN:.....

9. Una escuela ha comprado 746 sillas. Si cada una vale 240 pesetas, ¿cuántas pesetas cuestan todas las sillas?.

DATOS QUE ME DAN:.....

OPERACIÓN:.....

SOLUCIÓN:.....

10. Hemos comprado para la clase 34 libros de lectura a 365 pesetas cada uno. ¿Cuánto nos ha costado la compra?.

DATOS QUE ME DAN:.....

OPERACIÓN:.....

SOLUCIÓN:.....

11. Un libro vale 465 pesetas, ¿cuánto valen 306 libros como el mencionado?.

DATOS QUE ME DAN:.....

OPERACIÓN:.....

SOLUCIÓN:.....

12. Para cada alumno de un colegio se compraron dos platos. En el colegio hay 356 alumnos, ¿cuántos platos se compraron en ese colegio?.

DATOS QUE ME DAN:.....

OPERACIÓN:.....

SOLUCIÓN:.....

13. En una caja hay 25 chinchetas. Calcula las chinchetas que habrá en 10 cajas. ¿Cuántas habrá en 100 cajas?.

DATOS QUE ME DAN:.....

OPERACIÓN:.....

SOLUCIÓN:.....

14. El Sr. Linares gasta diariamente 467 pesetas en gasolina, ¿cuánto gasta en 9 días?.

DATOS QUE ME DAN:.....

OPERACIÓN:.....

SOLUCIÓN:.....

15. En una casa hay tres bidones de agua. Cada bidón tiene 100 litros de agua. ¿Cuántos litros de agua hay en la casa?.

DATOS QUE ME DAN:.....

OPERACIÓN:.....

SOLUCIÓN:.....

16. La Sra. Álvarez gasta 482 pesetas semanalmente en leche, ¿cuánto gasta en 5 semanas?.

DATOS QUE ME DAN:.....

OPERACIÓN:.....

SOLUCIÓN:.....

17. Ramón hace 4 viajes de su casa al colegio. La distancia es de 385 metros. ¿Cuántos metros recorre en total?.

DATOS QUE ME DAN:.....

OPERACIÓN:.....

SOLUCIÓN:.....

18. Una empresa ha mandado 1.385 cartas de propaganda. Cada carta lleva un sello de 7 pesetas. ¿Cuánto dinero ha gastado en sellos?.

DATOS QUE ME DAN:.....

OPERACIÓN:.....

SOLUCIÓN:.....

19. Una calculadora vale 2.039 pesetas, ¿cuánto valdrán 206 calculadoras como ésta?.

DATOS QUE ME DAN:.....

OPERACIÓN:.....

SOLUCIÓN:.....

20. Por el alquiler de una casa pagamos 1.862 pesetas al día, ¿cuánto pagaremos al año?.

DATOS QUE ME DAN:.....

OPERACIÓN:.....

SOLUCIÓN:.....

21. Un colegio ha comprado 806 camisetas a 927 pesetas cada una. ¿Cuánto dinero se ha gastado?.

DATOS QUE ME DAN:.....

OPERACIÓN:.....

SOLUCIÓN:.....

22. Luisa va todos los días a la escuela en bicicleta. Si la escuela está a 1.250 metros de su casa y tiene que ir a clase mañana y tarde, ¿cuántos Km. recorre Luisa cada día?.

DATOS QUE ME DAN:.....

OPERACIÓN:.....

SOLUCIÓN:.....

23. Un ovillo contiene 150 metros de hilo. ¿Cuántos metros de hilo habrá en una caja que contenga una docena y media de ovillos?. ¿Y en 6 cajas?.

DATOS QUE ME DAN:.....

OPERACIÓN:.....

SOLUCIÓN:.....

24. En una comunidad de 46 vecinos, cada uno de ellos paga 5.325 pesetas de gastos generales. ¿A cuánto ascienden los gastos generales de la comunidad en un año?

DATOS QUE ME DAN:.....

OPERACIÓN:.....

SOLUCIÓN:.....

NOMBRE:..... NIVEL:.....

FECHA:.....

1. un museo envía 432 cuadros a una exposición. Si en cada caja caben 12, ¿cuántas cajas se necesitan?

DATOS QUE ME DAN:.....

OPERACIÓN:.....

SOLUCIÓN:.....

2. Un automovilista ha recorrido 864 kilómetros en 12 horas. ¿Cuál es la velocidad media (kilómetros por cada hora) que ha llevado?

DATOS QUE ME DAN:.....

OPERACIÓN:.....

SOLUCIÓN:.....

3. En una pastelería se han envasado 2.400 caramelos. Meten 40 en cada bolsa. Calcula cuántas bolsas se necesitan.

DATOS QUE ME DAN:.....

OPERACIÓN:.....

SOLUCIÓN:.....

4. Los 34 alumnos de clase se han gastado 4.250 pesetas en una excursión. Calcula lo que ha de pagar cada uno si esta cantidad la pagan entre todos a partes iguales.

DATOS QUE ME DAN:.....

OPERACIÓN:.....

SOLUCIÓN:.....

5. Tienen 500 caramelos que quieren repartir en partes iguales entre 25 compañeros de clase, y tú te quedas con los que sobran, ¿cuántos te podrás quedar?

DATOS QUE ME DAN:.....

OPERACIÓN:.....

SOLUCIÓN:.....

6. Para hacer una excursión, 62 alumnos contratan una guagua por 33.914 pesetas. Halla el dinero que tiene que pagar cada uno.

DATOS QUE ME DAN:.....

OPERACIÓN:.....

SOLUCIÓN:.....

7. Una pistola cuesta 980 pesetas. Un Kilo de gofio vale 70 pesetas. ¿Cuántos kilos de gofio podré comprar con el dinero que cuesta esa pistola?

DATOS QUE ME DAN:.....

OPERACIÓN:.....

SOLUCIÓN:.....

8. Un tren ha recorrido 480 Km. en 6 horas. ¿Cuántos Km. ha recorrido en una hora?. ¿Cuánto tardó en recorrer 240 Km.?. ¿Y la tercera parte del camino?.

DATOS QUE ME DAN:.....

OPERACIÓN:.....

SOLUCIÓN:.....

9. En una biblioteca hay 3.400 libros. La mitad se colocan en 4 estanterías de un armario. El resto, en 5 estanterías de otro. Calcula los libros que habrá en cada estantería del primer y segundo armario.

DATOS QUE ME DAN:.....

OPERACIÓN:.....

SOLUCIÓN:.....

10. Un tren recorre 82 Km. por hora. ¿En cuánto tiempo recorre 1.066 Km.?.

DATOS QUE ME DAN:.....

OPERACIÓN:.....

SOLUCIÓN:.....

11.



La situación en que se encuentra esta chica se resuelve con: averiguar las cajas que necesita para embalar todos los cinturones.

DATOS QUE ME DAN:.....

OPERACIÓN:.....

SOLUCIÓN:.....

12. En una carrera de 3.500 metros, los atletas se relevan cada 500 metros. ¿Cuántos atletas hay en cada equipo?.

DATOS QUE ME DAN:.....

OPERACIÓN:.....

SOLUCIÓN:.....

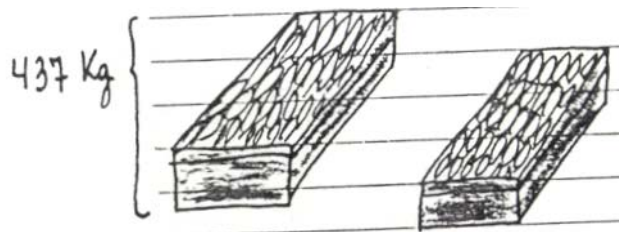
13. Un niño, el día de su cumpleaños, tiene 4.017 días. ¿Cuántos años ha cumplido?. ¿De los años que ha cumplido, cuántos han sido bisiestos?.

DATOS QUE ME DAN:.....

OPERACIÓN:.....

SOLUCIÓN:.....

14. Cinco marisqueros han capturado estos mariscos. Los han vendido por 152.965 pesetas. ¿A cómo han vendido el Kg.?.



DATOS QUE ME DAN:.....

OPERACIÓN:.....

SOLUCIÓN:.....

15. Un camión transporta vigas de hierro. Cada viga pesa 650 Kg. El peso total es de 4.690 Kg. Descargan tres vigas, ¿cuánto pesan las vigas que quedan en el camión?

DATOS QUE ME DAN:.....

OPERACIÓN:.....

SOLUCIÓN:.....

16. He cobrado 250.000 pesetas en billetes de 5.000, ¿cuántos billetes me han dado?

DATOS QUE ME DAN:.....

OPERACIÓN:.....

SOLUCIÓN:.....

17. Antonio avanza a cada paso 60 cm y su padre 75 cm. Los dos han andado una distancia de 1.200 metros. ¿Cuántos pasos ha dado Antonio?. ¿Y su padre?

DATOS QUE ME DAN:.....

OPERACIÓN:.....

SOLUCIÓN:.....