


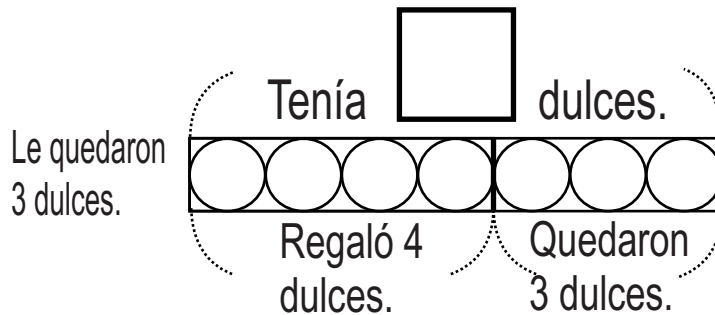

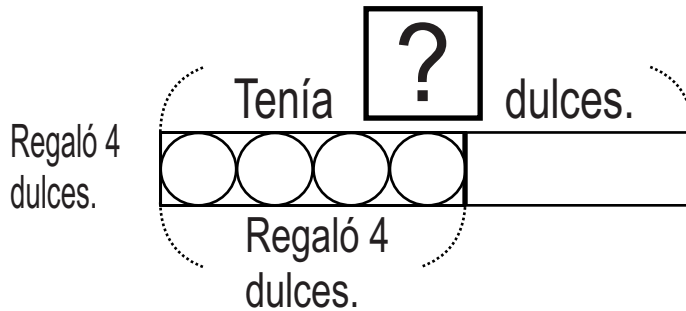
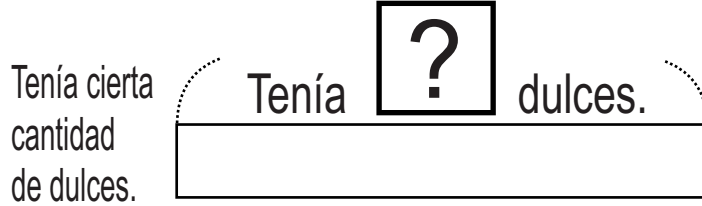
T16

Suma o resta





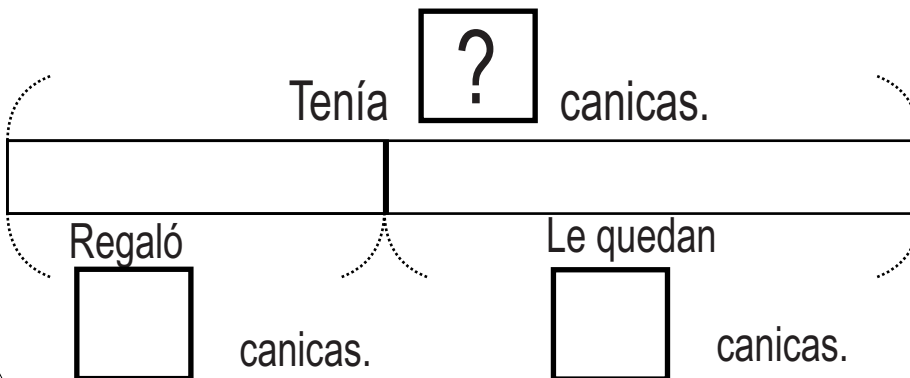
Brenda tenía cierta cantidad de dulces. De esa cantidad regaló 4 dulces y le quedaron 3. ¿Cuántos dulces tenía al inicio?
Observo y encuentro la solución.



Planteamiento _____ Respuesta _____

Escribo el número y resuelvo.

Ramiro tenía cierta cantidad de canicas. Le regaló 5 canicas a su hermano y le quedaron 7 canicas. ¿Cuántas canicas tenía al inicio?



Planteamiento

Respuesta




Leo y resuelvo.


Carlos tenía cierta cantidad de chicles. Le regalaron 7 más y ahora tiene 10 chicles en total. ¿Cuántos chicles tenía Carlos al inicio?

Observo y encuentro la solución.

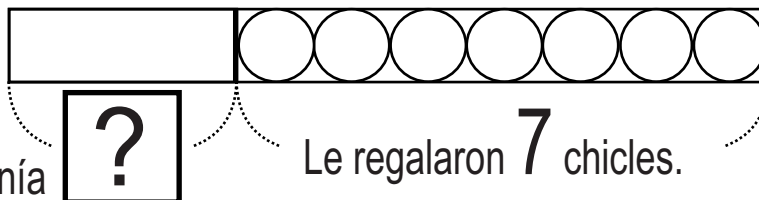
Tenía cierta cantidad de chicles.



Tenía chicles.




Le regalaron 7 chicles.

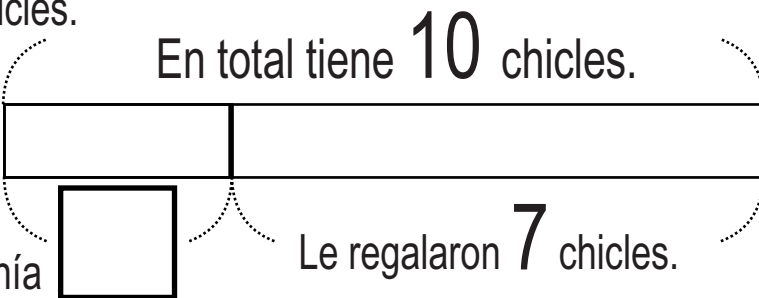


Tenía chicles.

Le regalaron 7 chicles.




En total tiene 10 chicles.



Tenía chicles.

Le regalaron 7 chicles.



Planteamiento _____ Respuesta _____

Escribo el número y resuelvo.

Silvia tenía cierta cantidad de tapitas en un bote. Echa 7 tapitas y ahora tiene 16 tapitas en total. ¿Cuántas tapitas tenía al inicio?

En total tiene tapitas.

Planteamiento



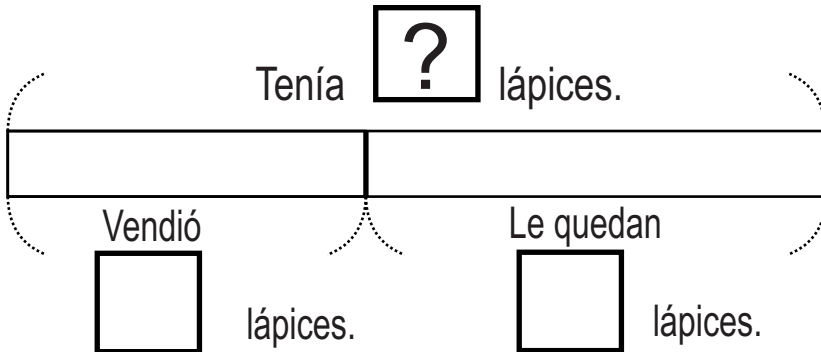
Respuesta

Tenía tapitas. Echa tapitas.



Leo y resuelvo.

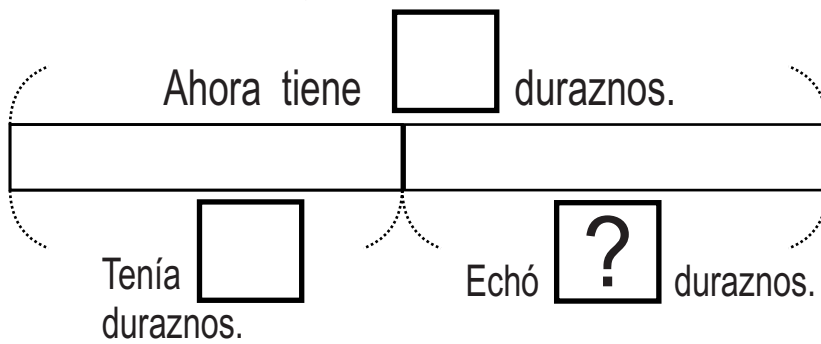
Raúl tenía cierta cantidad de lápices. Como vendió **12** lápices ahora le quedan **16** lápices. ¿Cuántos lápices tenía al inicio?



Forma vertical

Planteamiento _____ Respuesta _____

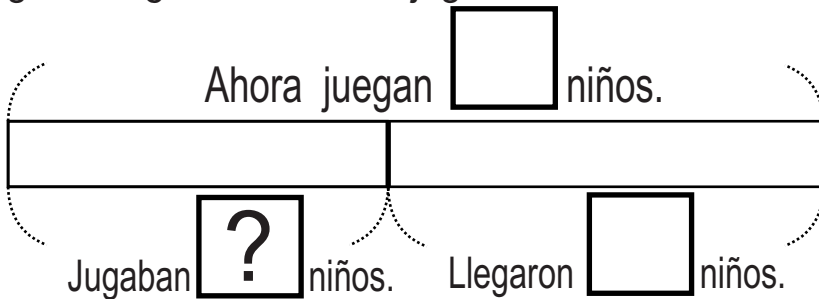
Sofía tenía **12** duraznos dentro de una canasta. Echó más duraznos y ahora tiene **25**. ¿Cuántos duraznos echó?



Forma vertical

Planteamiento _____ Respuesta _____

En la cancha jugaban cierta cantidad de niños. Llegaron **15** niños y ahora juegan **28**. ¿Cuántos niños jugaban al inicio?



Forma vertical

Planteamiento _____ Respuesta _____