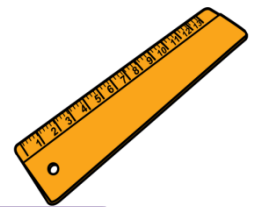


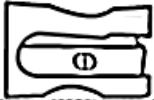
MEDIDAS DE LONGITUD


LA REGLA




Con la regla medimos **CENTÍMETROS** . y se escribe **cm**


- Fíjate en lo que miden estos objetos y anota el resultado.


 sacapuntas




Escribe la longitud

cm. 

 boli



Escribe la longitud

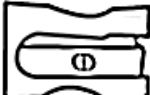

cm. 

- Completa:

El  mide centímetros.

El  mide centímetros

- Ahora vamos a comparar **MAYOR QUE** - **MENOR QUE**

El  mide que el 

El  mide que el 

- Fíjate en lo que miden estos objetos y anota el resultado.

goma

Escribe la longitud cm.

chocolate

Escribe la longitud cm.

- Completa:

El mide cm.

La mide cm.


- Ahora vamos a comparar MAYOR QUE - MENOR QUE

El mide que la

La mide que el

El y la miden



- Fíjate en lo que miden estos objetos y anota el resultado.



lápiz

Escribe la longitud


cm.

llave

Escribe la longitud



cm.




La  mide cm.

La  mide cm.

- Ahora vamos a comparar MAYOR QUE - MENOR QUE

El  mide que la 

La  mide que el 

El  mide que la 