


EL TIEMPO

ESTUDIA


- Un día tiene 24 horas.
- Una semana tiene 7 días que son: lunes, martes, miércoles, jueves, viernes, sábado y domingo. El sábado y el domingo forman el fin de semana.
- Un año tiene 12 meses que son: enero, febrero, marzo, abril, mayo, junio, julio, agosto, septiembre, octubre, noviembre, diciembre.
- En un año hay 4 estaciones que son: primavera, verano, otoño e invierno.

Escribe en los recuadros la hora que aparece en estos relojes.


1.



2.




3.




Escribe los días de la semana.

Escribe en los recuadros la hora que aparece en estos relojes.


4.



5.




6.




Escribe las estaciones del año.

Escribe en los recuadros la hora que aparece en estos relojes.


7.



8.



9.



Escribe los meses del año.

Contesta:

¿Cuántos días tiene una semana? _____

¿Cuántos meses tiene una año? _____

¿Cuántas estaciones tiene un año? _____

¿Cuántas horas tiene un día? _____

Dibuja un reloj que marque las 6 en punto y otro que marque las 5 y media.