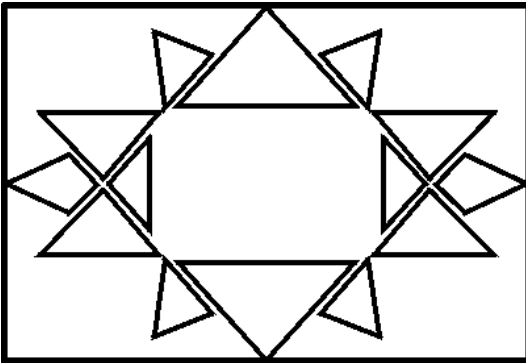


# TRIÁNGULOS

## ESTUDIA



Clasificación de los triángulos según los lados.

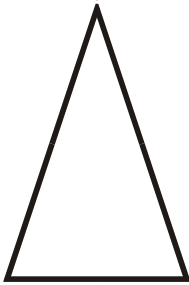
**EQUILÁTERO**- todos los lados miden lo mismo.

**ISÓSCELES**- dos lados miden igual y uno distinto.

**ESCALENO**- ningún lado mide igual.

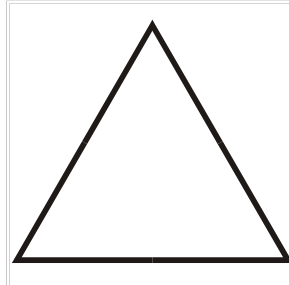
Escribe el nombre de estos triángulos. Según sus lados.

1.



\_\_\_\_\_

2.



\_\_\_\_\_

3.



\_\_\_\_\_

Clasificación de los TRIÁNGULOS según los ÁNGULOS.

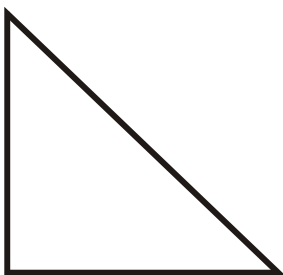
**RECTÁNGULO**- tiene un ángulo recto.

**ACUTÁNGULO**- tiene dos ángulos agudos.

**OBTUSÁNGULO**- tiene un ángulo obtuso.


Escribe el nombre de estos triángulos según sus ángulos.

4.



\_\_\_\_\_

5.



\_\_\_\_\_

6.



\_\_\_\_\_