


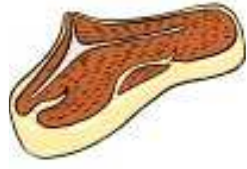
Dibuja el camino empezando por el 4 y acabando por el 400, contando de tres en tres.





36	40	44	48	52	112	116
32	28	24	20	56	108	120
4	8	12	16	60	104	124

204	200	196	192	188	184	180	64	100	128
208	244	248	252	256	260	176	68	86	132
212	240	278	272	268	264	172	72	92	136
216	236	280	348	352	356	168	76	88	140
220	232	284	344	364	360	164	80	84	144
224	228	288	340	368	372	160	156	152	148
300	296	292	336	380	376				
304	316	320	332	384	396	400			
308	312	324	328	388	392				



Dibuja el camino empezando por el 4 y acabando por el 400, contando de cuatro en cuatro.

			68	72	84	88	100	104	
			64	76	80	92	96	108	112
			60	56	52	48	44	40	116
4	8	12	16	20	24	28	32	36	120
240	236	232	180	176	172	168	164	160	124
244	248	228	184	340	344	348	352	156	128
256	252	224	188	336	380	376	356	152	132
260	264	220	192	332	384	372	360	148	136
272	268	216	196	328	388	368	364	144	140
276	280	212	200	324	392	396			
288	284	208	204	320	316	400			
292	296	300	304	308	312				



Dibuja el camino empezando por el 4 y acabando por el 400, contando de cuatro en cuatro.

		4	8	12	16	20	80	84	
		224	220	160	156	24	76	88	
		228	216	164	152	28	72	92	
	240	236	232	212	168	148	32	68	96
248	244	328	332	208	172	144	36	64	100
252	256	324	336	204	176	140	40	60	104
264	260	320	340	200	180	136	44	56	108
268	272	316	344	196	184	132	48	52	112
280	276	312	348	192	188	128	124	120	116
284	304	308	352	380	384				
288	300	360	356	376	388	400			
292	296	364	368	372	392	396			



Dibuja el camino empezando por el 4 y acabando por el 400, contando de cuatro en cuatro.

			4	8	12	16	20	80	84
			224	220	160	156	24	76	88
			228	216	164	152	28	72	92
	240	236	232	212	168	148	32	68	96
248	244	312	316	208	172	144	36	64	100
252	304	308	320	204	176	140	40	60	104
256	300	328	324	200	180	136	44	56	108
260	296	332	336	196	184	132	48	52	112
264	292	344	340	192	188	128	124	120	116
268	288	348	352	356	360				
272	284	376	372	368	364	400			
276	280	380	384	388	392	396			



Dibuja el camino empezando por el 4 y acabando por el 400, contando de cuatro en cuatro.

				4	8	12	16	20	24	28
				232	228	184	180	40	36	32
				236	224	188	176	44	48	52
	272	268	240	220	182	172	104	100	56	
280	276	264	244	216	186	168	108	96	60	
284	288	260	248	212	200	164	112	92	64	
296	292	256	252	208	204	160	116	88	68	
300	304	308	144	148	152	156	120	84	72	
320	316	312	140	136	132	128	124	80	76	
324	344	348	368	372	392	396				
328	340	352	364	376	388	400				
332	336	356	360	380	384					



Dibuja el camino empezando por el 4 y acabando por el 400, contando de cuatro en cuatro.

			4	8	12	16	20	24	28
			184	180	160	156	96	92	32
			188	176	164	152	100	88	36
204	200	196	192	172	168	148	108	84	40
208	244	248	252	256	260	144	108	80	44
212	240	278	272	268	264	140	112	76	48
216	236	280	348	352	356	136	116	72	52
220	232	284	344	364	360	132	120	68	56
224	228	288	340	368	372	128	124	64	60
300	296	292	336	380	376				
304	316	320	332	384	396	400			
308	312	324	328	388	392				



Dibuja el camino empezando por el 4 y acabando por el 400, contando de cuatro en cuatro.

			4	8	12	16	20	24	28
			224	220	160	156	40	36	32
			228	216	164	152	44	48	52
	240	236	232	212	168	148	104	100	56
248	244	328	332	208	172	144	108	96	60
252	256	324	336	204	176	140	112	92	64
264	260	320	340	200	180	136	116	88	68
268	272	316	344	196	184	132	120	84	72
280	276	312	348	192	188	128	124	80	76
284	304	308	352	380	384				
288	300	360	356	376	388	400			
292	296	364	368	372	392	396			



Dibuja el camino empezando por el 4 y acabando por el 400, contando de cuatro en cuatro.

			264	768	272	276	280	300	304
			260	256	252	248	284	296	308
			144	148	240	244	288	292	312
8	4		140	152	236	232	324	320	316
12	72	76	136	156	160	228	328	356	360
16	68	80	132		164	224	332	352	364
20	64	84	128	172	168	220	336	348	368
24	60	88	124	176	212	216	340	344	372
28	56	92	120	180	208	386	384	380	376
32	52	96	116	184	204	392			
36	48	100	112	188	200	396			
40	44	104	108	192	196	400			

Dibuja el camino empezando por el 4 y acabando por el 400, contando de cuatro en cuatro.

			264	768	272	276	280	300	304
			260	256	252	248	284	296	308
			144	148	240	244	288	292	312
8	4		140	152	236	232	324	320	316
12	72	76	136	156	160	228	328	356	360
16	68	80	132		164	224	332	352	364
20	64	84	128	172	168	220	336	348	368
24	60	88	124	176	212	216	340	344	372
28	56	92	120	180	208	386	384	380	376
32	52	96	116	184	204	392			
36	48	100	112	188	200	396			
40	44	104	108	192	196	400			

Dibuja el camino empezando por el 4 y acabando por el 400, contando de cuatro en cuatro.

				12	16	28	32	36	40
			4	8	20	24	52	48	44
			168	164	160	156	56	60	64
184	180	176	172	316	320	152	124	120	68
188	304	308	312	316	320	148	128	116	72
200	300	336	332	328	324	144	132	112	76
204	296	340	352	356	360	140	136	108	80
208	292	344	348		364	368	100	104	84
212	288	284	280	276	376	372	96	92	88
216	220	248	252	272	380	384			
228	224	244	256	268	392	388			
232	236	240	260	264	396	400			