

1.-Escribe su nombre:

12.500	
38.030	
39.008	
57.000	
46.142	

2.-Escribe el número:

Veinte mil once	
Sesenta y cinco mil cuatro	
Ochenta mil	
Cincuenta mil doscientos siete	
Treinta mil setecientos noventa	
Cuarenta mil ciento trece	
Setenta mil ochocientos cuarenta y cinco	

3.-Escribe el número anterior y posterior:

	23.423	
	999	
	1.249	
	500	

4.-Colorea el número mayor de cada fila:

2.000	4.000	6.000	999
-------	-------	-------	-----

456	367	289	109
-----	-----	-----	-----

3.987	3.345	3.000	3.009
-------	-------	-------	-------

5.-Completa la serie

+1	23.456				
----	--------	--	--	--	--

6.-Completa la serie:

+2	7.002				
----	-------	--	--	--	--

7.-Cuenta hacia atrás:

-1	9.999				
----	-------	--	--	--	--

8.-Ordena de mayor a menor

26.423	41.498	8.256	52.190	94.350
--------	--------	-------	--------	--------

_____ > _____ > _____ > _____ > _____

9.-Ordena de menor a mayor

978	1.234	600	34.009	128
-----	-------	-----	--------	-----

_____ < _____ < _____ < _____ < _____

10.-Escribe los números formados por:

3 D.M. + 8 U.M. + 4 C + 5 D + 1 U

_____ + _____ + _____ + _____ + _____ = _____

$$7 \text{ D.M.} + 2 \text{ U.M.} + 9 \text{ C} + 3 \text{ D} + 8 \text{ U}$$

$$\underline{\hspace{2cm}} + \underline{\hspace{2cm}} + \underline{\hspace{2cm}} + \underline{\hspace{2cm}} + \underline{\hspace{2cm}} = \underline{\hspace{2cm}}$$

$$1 \text{ D.M.} + 6 \text{ U.M.} + 0 \text{ C} + 4 \text{ D} + 9 \text{ U}$$

$$\underline{\hspace{2cm}} + \underline{\hspace{2cm}} + \underline{\hspace{2cm}} + \underline{\hspace{2cm}} + \underline{\hspace{2cm}} = \underline{\hspace{2cm}}$$

$$5 \text{ D.M.} + 0 \text{ U.M.} + 8 \text{ C} + 1 \text{ D} + 2 \text{ U}$$

$$\underline{\hspace{2cm}} + \underline{\hspace{2cm}} + \underline{\hspace{2cm}} + \underline{\hspace{2cm}} + \underline{\hspace{2cm}} = \underline{\hspace{2cm}}$$

$$4 \text{ D.M.} + 9 \text{ U.M.} + 1 \text{ C} + 9 \text{ D} + 0 \text{ U}$$

$$\underline{\hspace{2cm}} + \underline{\hspace{2cm}} + \underline{\hspace{2cm}} + \underline{\hspace{2cm}} + \underline{\hspace{2cm}} = \underline{\hspace{2cm}}$$

$$1 \text{ D.M.} + 4 \text{ U.M.} + 7 \text{ C} + 5 \text{ D} + 2 \text{ U}$$

$$\underline{\hspace{2cm}} + \underline{\hspace{2cm}} + \underline{\hspace{2cm}} + \underline{\hspace{2cm}} + \underline{\hspace{2cm}} = \underline{\hspace{2cm}}$$

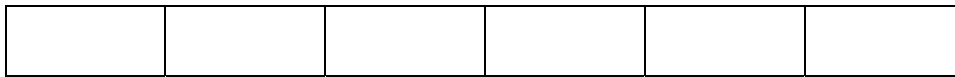
38.912					treinta y ocho mil novecientos doce				
D.M.	U.M.	C	D	U					
Decenas de millar	Unidades de millar	Centenas	Decenas	Unidades					
3	8	9	1	2					
30.000	+	8.000	+	900	+	10	+	2	

11.- Escribe fracciones

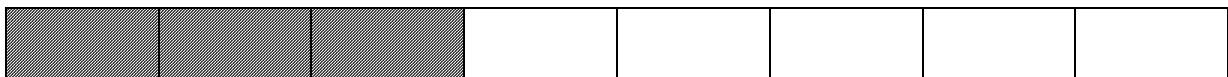
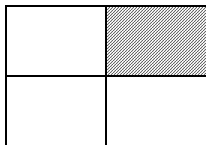
Un medio		Cuatro doceavos	
Tres cuartos		Diez quinceavos	

Dos quintos		Un sexto	Obj. Conocer los números hasta el 99.999
Seis décimos		Tres séptimos	
Siete octavos		Seis novenos	
Dos tercios		Ocho onceavos	

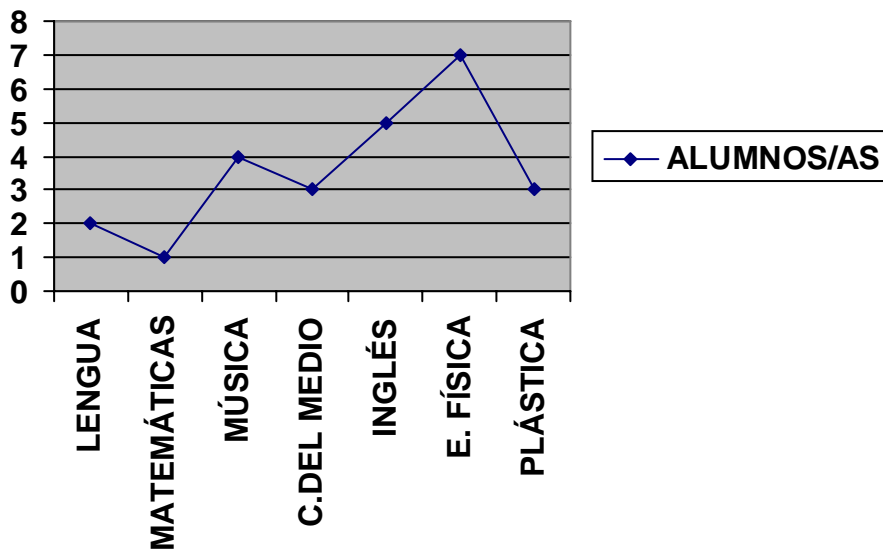
12-Colorea dos sextos de rojo, un sexto de amarillo y tres sextos de verde



13.- ¿Qué fracción queda sin colorear?



14.-Gráficos



Los alumnos de sexto han respondido a la siguiente pregunta:

¿Cuál es tu asignatura preferida?

Los resultados se han recogido en el gráfico anterior.

FÍJATE bien y responde a las siguientes cuestiones:

1°.- ¿Cuál ha sido la más votada? _____

2°.-¿Cuál ha sido la menos votada? _____

3°.-¿Cuántos alumnos/as prefieren la clase de inglés? _____

4°.-¿Ha habido algún empate? _____

5°.-¿Cuántos alumnos/as han sido encuestados? _____

15.- Coloca y suma

$$3.456 + 457 + 78 =$$

$$934 + 562 + 8 =$$

16.- Coloca y resta

$$3987 - 453 =$$

$$456 - 98 =$$

$$300 - 38 =$$

17.-Multiplica

$$234 \times 5 =$$

$$1258 \times 4 =$$

$$567 \times 23 =$$

18.-Divide y haz la prueba

$4578 : 5 =$

$2987 : 7 =$

$1208 : 8 =$

NOMBRE:

FECHA:

Tema 1. CONTROL DE MATEMÁTICAS.

1. Calcula

1.300	9.880	9.888	1.009
7.444	9.090	7.887	9.999
<u>$+9.999$</u>	<u>$+6.666$</u>	<u>$+9.999$</u>	<u>$+6.666$</u>
6.660	8.760	6.887	9.774
<u>$- 1.770$</u>	<u>$- 5.000$</u>	<u>$- 6.097$</u>	<u>$- 885$</u>

2. Escribe con letras:

8.080 : _____

56.103: _____

3. Ordena estas cantidades de menor a mayor:


400, 82.179, 21.088, 6.201, 2.500

_____, _____, _____, _____, _____.

4. Completa la serie.

<i>200</i>	<i>210</i>	<i>220</i>									

5. Escribe las tablas de 2 y del 3.



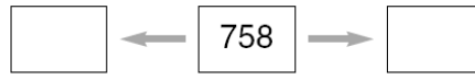
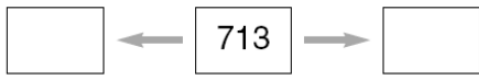

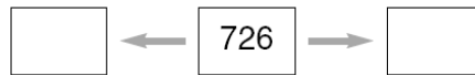

6. Realiza la descomposición de estos números.

4.560: _____

3.600: _____

498 : _____

7. Realiza la descomposición de estos números.



8. En un cine hay 5 niños. Salen 3 y entran después 6 niños. ¿Cuántos niños hay al final?

Solución. _____

9. Luís tenía 5 canicas, Ricardo tiene 6 canicas y Rafael 6. ¿Cuántas tienen entre los tres?

Solución. _____

10. Inventa un problema que se resuelva con esta operación: $50-12=$
Resuelve el problema y escribe el resultado.

Solución. _____

Control de Matemáticas

Nombre: _____ Fecha: _____

1.-Escribe su nombre:

1.504	
2.420	
4.215	
9.399	
6.837	

2.-Escribe el número:

mil seiscientos dos	
tres mil novecientos cuatro	
cuatro mil setecientos cuarenta y uno	
quinientos treinta y ocho	
seis mil ciento uno	
dos mil ciento trece	
seiscientos quince	

3.-Escribe el número anterior y posterior:

	1.129	
	3.440	
	9.869	
	5.599	

4.-Colorea el número mayor de cada fila:

9.146	7.689	9.200	6.500
-------	-------	-------	-------

8.190	8.110	7.150	8.160
-------	-------	-------	-------

5.-Completa la serie

5.002	5.003						
-------	-------	--	--	--	--	--	--

6.-Completa la serie:

+2

3.222	3.224								
-------	-------	--	--	--	--	--	--	--	--

7.-Cuenta hacia atrás:

8.199	8.198								
-------	-------	--	--	--	--	--	--	--	--

8.-Ordena de mayor a menor

1.423	1.498	2.256	2.190	1.350
-------	-------	-------	-------	-------

_____ > _____ > _____ > _____ > _____

9.-Ordena de menor a mayor

3.023	3.019	3.156	3.160	3.298
-------	-------	-------	-------	-------

_____ < _____ < _____ < _____ < _____

10.-Completa:

$2 \times 3 = \underline{\quad}$

$3 \times 7 = \underline{\quad}$

$4 \times 5 = \underline{\quad}$

$5 \times 5 = \underline{\quad}$

$8 \times 7 = \underline{\quad}$

$9 \times 9 = \underline{\quad}$

$3 \times 3 = \underline{\quad}$

$6 \times 7 = \underline{\quad}$

$3 \times 10 = \underline{\quad}$

$7 \times 2 = \underline{\quad}$

$4 \times 0 = \underline{\quad}$

$9 \times 1 = \underline{\quad}$

$6 \times 6 = \underline{\quad}$

$7 \times 4 = \underline{\quad}$

$10 \times 10 = \underline{\quad}$

$4 \times 4 = \underline{\quad}$

Control de Matemáticas

Nombre: _____ Fecha: _____

1.-Escribe su nombre:

504	
420	
215	
399	
837	

2.-Escribe el número:

seiscientos dos	
novecientos cuatro	
setecientos cuarenta y uno	
quinientos treinta y ocho	
ciento uno	
ciento trece	
seiscientos quince	

3.-Escribe el número anterior y posterior:

	125	
	440	
	869	
	599	

4.-Colorea el número mayor

146	689	200	500
-----	-----	-----	-----

5.-Completa la serie

300	301								

6.-Completa la serie:

+2

422	424								
-----	-----	--	--	--	--	--	--	--	--

7.-Cuenta hacia atrás:

599	598								
-----	-----	--	--	--	--	--	--	--	--

8.-Ordena de mayor a menor

423	998	256	190	350
-----	-----	-----	-----	-----

_____ > _____ > _____ > _____ > _____

9.-Ordena de menor a mayor

923	619	56	160	298
-----	-----	----	-----	-----

_____ < _____ < _____ < _____ < _____

Control de Matemáticas

Nombre: _____ Fecha: _____

1.-Escribe su nombre:

10.504	
20.420	
42.215	
9.399	
106.837	

2.-Escribe el número:

quinientos mil seiscientos dos	
tres mil novecientos cuatro	
treinta y cuatro mil setecientos cuarenta y uno	
quinientos treinta y ocho	
doscientos seis mil ciento uno	
dos mil ciento trece	
cuarenta mil seiscientos quince	

3.-Escribe el número anterior y posterior:

	111.129	
	43.440	
	99.869	
	275.599	

4.-Colorea el número mayor de cada fila:

345.789	789.345	300.999	123.980	45.980	700.900
---------	---------	---------	---------	--------	---------

67.890	56.897	23.000	17.980	67.892	43.009
--------	--------	--------	--------	--------	--------

5.-Completa la serie

25.002	25.003						
--------	--------	--	--	--	--	--	--

6.-Completa la serie:

+2

456.780					
---------	--	--	--	--	--

7.-Cuenta hacia atrás:

987.786	987.785				
---------	---------	--	--	--	--

8.-Ordena de mayor a menor

21.423	41.498	22.256	62.190	91.350
--------	--------	--------	--------	--------

_____ > _____ > _____ > _____ > _____

9.-Ordena de menor a mayor

93.023	83.019	73.156	93.160	53.298
--------	--------	--------	--------	--------

_____ < _____ < _____ < _____ < _____

10.-Completa:

$2 \times 3 =$ _____	$3 \times 7 =$ _____	$4 \times 5 =$ _____	$5 \times 5 =$ _____
$8 \times 7 =$ _____	$9 \times 9 =$ _____	$3 \times 3 =$ _____	$6 \times 7 =$ _____
$3 \times 10 =$ _____	$7 \times 2 =$ _____	$4 \times 0 =$ _____	$9 \times 1 =$ _____
$6 \times 6 =$ _____	$7 \times 4 =$ _____	$10 \times 10 =$ _____	$4 \times 4 =$ _____