

Objetivos del tema.

- Leer y escribir números hasta el 99.999
- Conocer el valor posicional y descomponer números hasta el 99.999
- Redondear números hasta la decena más próxima.
- Conocer los ordinales hasta el 20^o
- Realizar series ascendentes y descendentes sencillas.
- Conocer el anterior y el posterior de un número.
- Sumar y restar con llevadas, conocer los términos de la suma y la resta, operar con paréntesis.
- Propiedad conmutativa de la suma.
- Multiplicar por 1 y 2 cifras. Conocer los términos de la multiplicación.
- Expresar la multiplicación como suma de sumandos.
- Dividir por una cifra.
- Resolver problemas que impliquen una suma o una resta
- Resolver problemas que impliquen una multiplicación.

● Coloca y calcula.

Sumandos: 637, 156, 19

Minuendo: 735

Sustraendo: 608

● Realiza las multiplicaciones.

$$\begin{array}{r} 137 \\ \times 3 \\ \hline \end{array}$$

$$\begin{array}{r} 123 \\ \times 7 \\ \hline \end{array}$$

$$\begin{array}{r} 246 \\ \times 4 \\ \hline \end{array}$$

$$\begin{array}{r} 458 \\ \times 2 \\ \hline \end{array}$$

● Escribe el número anterior y el posterior.

← →

← →

← →

← →

← →

← →

● Completa.

$18 = \square \times \square$

$4 = \square \times \square$

$14 = \square \times \square$

$20 = \square \times \square$

$6 = \square \times \square$

$12 = \square \times \square$

$10 = \square \times \square$

$8 = \square \times \square$

$16 = \square \times \square$

● Coloca y suma.

Sumandos: 471, 26, 196

Sumandos: 194, 38, 241

- Ordena de mayor a menor y escribe los signos.

45 - 76 - 12 - 9 - 48 - 95

□ ○ □ ○ □ ○ □ ○ □ ○ □

- Rodea el número anterior de azul y el número posterior de verde.

59 →

58	60	51
----	----	----

70 →

80	71	69
----	----	----

45 →

40	46	44
----	----	----

10 →

11	8	9
----	---	---

- Escribe estos números donde corresponda, ordenándolos como se indica:

265 - 453 - 714 - 908 - 539 - 750 - 817 - 10

De menor a mayor.

De mayor a menor.

ANTERIOR	PARES	POSTERIOR

ANTERIOR	IMPARES	POSTERIOR

- Aproxima estos números:

NÚMERO	DECENA MÁS PRÓXIMA
938	
562	
787	
124	

- Corrige las operaciones que están mal.

$$\begin{array}{r} 564 \\ + 238 \\ \hline 792 \end{array}$$

$$\begin{array}{r} 736 \\ - 289 \\ \hline 553 \end{array}$$

$$\begin{array}{r} 649 \\ - 186 \\ \hline 463 \end{array}$$

$$\begin{array}{r} 357 \\ + 560 \\ \hline 810 \end{array}$$

● Resuelve.

Hemos vendido 12 paquetes de pilas. Si cada paquete tiene 4 pilas, ¿cuántas pilas hemos vendido en total?

● Resuelve.

En el Parque Natural hay 851 animales. Si 169 son mamíferos, ¿cuántas aves hay?

● Escribe los factores para estos resultados:

$$24 = \square \times \square$$

$$27 = \square \times \square$$

$$30 = \square \times \square$$

$$3 = \square \times \square$$

$$9 = \square \times \square$$

$$18 = \square \times \square$$

$$21 = \square \times \square$$

$$6 = \square \times \square$$

$$12 = \square \times \square$$

● Resuelve.

Al almacén llegan dos camiones con tablones; uno con 225 tablones y otro con 199. Si se utilizan 387, ¿cuántos tablones quedan?

● Resuelve.

Entre Juan y Pilar recogieron 248 setas. Si Juan recogió 132 setas, ¿cuántas cogió Pilar?

● Une y ordena de menor a mayor.

6 C, 5 D y 3 U

936

$600 + 50 + 3$

9 C, 3 D y 6 U

536

$500 + 30 + 6$

5 C, 3 D y 6 U

653

$400 + 40 + 6$

9 C, 4 D y 6 U

805

$900 + 30 + 6$

8 C, 0 D y 5 U

469

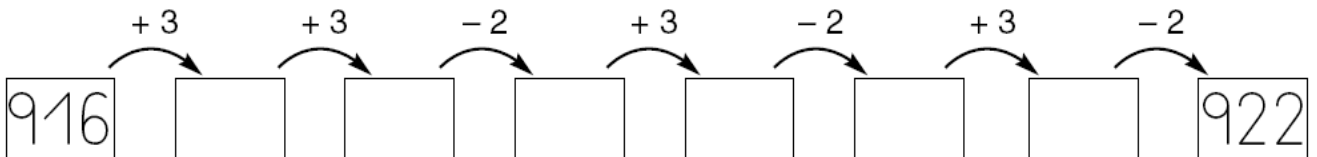
$800 + 5$

4 C, 6 D y 9 U

946

$400 + 60 + 9$

● Completa.



● Agrupa y calcula.

$$4 + 6 + 7 = \boxed{4 + 6} + 7 = \boxed{10} + \boxed{7} = \boxed{}$$

$$4 + 6 + 7 = 4 + \boxed{6 + 7} = \boxed{} + \boxed{} = \boxed{}$$

● Colorea la decena más próxima.

29	→	20	30		78	→	80	70
41	→	40	50		52	→	60	50
67	→	60	70		84	→	80	90

● Resuelve.

La colección de mariposas de Juan tiene 50 mariposas. Si Juan ha conseguido ya 37 mariposas. ¿Cuántas le faltan para completar la colección?

● Escribe los números que faltan para que cada serie sume 500.

50 100 200 50

100 50 200 100

50 150 50 100

● Colorea en cada caso el número que corresponda.


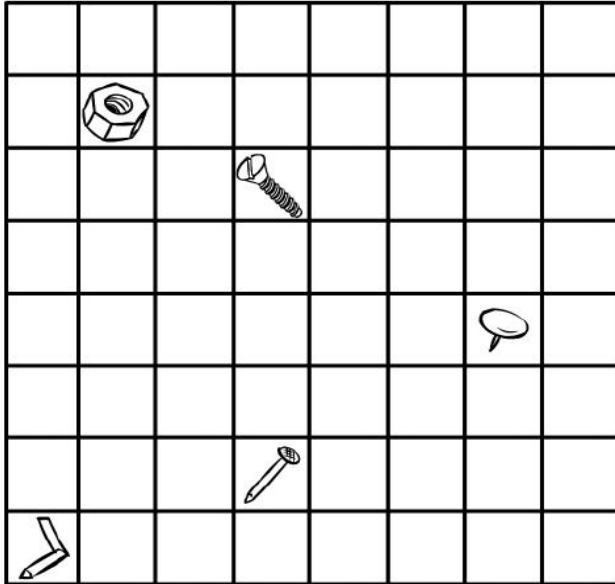
Soy mayor que 45.
Soy menor que 50.
La cifra de las unidades es 7.

48 56 47 43

La cifra de las decenas es 8.
Soy posterior al 82.
Soy justo el anterior al 86.

85 89 73 81

● Observa y copia.



● Observa estas operaciones y completa:

$$\begin{array}{r} 54 \\ + 24 \\ \hline 78 \end{array}$$

$$\begin{array}{r} 97 \\ - 63 \\ \hline 34 \end{array}$$

Los sumandos son: y

El minuendo es:

La suma o total es:

El sustraendo es:

La diferencia es:

● Resuelve.

En la cancha había 7 niños. Durante el recreo llegaron 8 niños más. Al terminar el recreo se marcharon 4 niños. ¿Cuántos quedaron en la cancha?

¿Cuántos niños había antes del recreo en la cancha?

¿Cuántos niños entraron durante el recreo?

¿Cuántos niños había antes de acabar en el recreo en la cancha?

$$\boxed{} \bigcirc \boxed{} = \boxed{}$$

● Corrige las operaciones incorrectas.

$$\begin{array}{r} 79 \\ + 36 \\ \hline 105 \end{array}$$

$$\begin{array}{r} 65 \\ + 49 \\ \hline 104 \end{array}$$

$$\begin{array}{r} 28 \\ + 57 \\ \hline 85 \end{array}$$

$$\begin{array}{r} 16 \\ + 84 \\ \hline 91 \end{array}$$

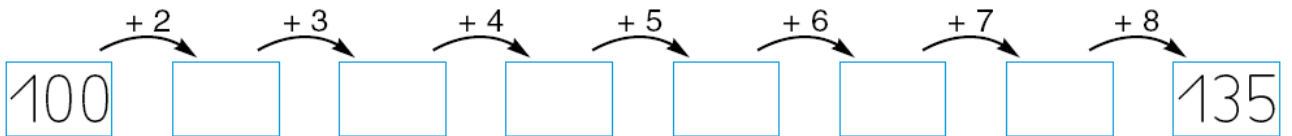
$$\begin{array}{r} 98 \\ + 16 \\ \hline 104 \end{array}$$

$$\begin{array}{r} 38 \\ + 87 \\ \hline 125 \end{array}$$

$$\begin{array}{r} 68 \\ + 90 \\ \hline 168 \end{array}$$

$$\begin{array}{r} 29 \\ + 78 \\ \hline 97 \end{array}$$

● Completa.



● Resuelve y contesta.

Gloria tiene 7 peluches y 5 muñecas, y su hermana Aurora tiene 7 muñecas y 5 peluches. ¿Cuántos juguetes tiene cada una?

► Completa.

$$\boxed{12 + 13} + 4 = \boxed{} + \boxed{} = \boxed{}$$
$$12 + \boxed{13 + 4} = \boxed{} + \boxed{} = \boxed{}$$

$$\boxed{25 + 20} + 10 = \boxed{} + \boxed{} = \boxed{}$$
$$25 + \boxed{20 + 10} = \boxed{} + \boxed{} = \boxed{}$$