

NOMBRE:

FECHA:

Realiza las siguientes operaciones:

$$\begin{array}{r} 6 \quad 7 \\ + \quad 1 \quad 2 \\ \hline \end{array} \quad \begin{array}{r} 8 \quad 5 \\ - \quad 3 \quad 4 \\ \hline \end{array} \quad \begin{array}{r} 3 \quad 2 \\ + \quad 2 \quad 7 \\ \hline \end{array} \quad \begin{array}{r} 9 \quad 9 \\ - \quad 5 \quad 1 \\ \hline \end{array} \quad \begin{array}{r} 4 \quad 8 \\ + \quad 2 \quad 1 \\ \hline \end{array}$$

Dibuja un árbol con tres pájaros amarillos y cinco pájaros azules.

Dibuja una maceta con cuatro margaritas rojas y tres margaritas moradas.


¿Cuántos pájaros azules hay? _____
¿Cuántos pájaros amarillos hay? _____
¿Cuántos pájaros hay en total en el árbol?

¿Cuántas margaritas moradas hay? _____
¿Cuántas margaritas rojas hay? _____
¿Cuántas margaritas hay en total?

	2	3	4	9	7	5	6	8
+2								

	6	9	3	4	10	8	2	5
-1								

Realiza las siguientes operaciones



$$\begin{array}{r} 268 \\ + 336 \\ \hline \end{array}$$

$$\begin{array}{r} 169 \\ + 354 \\ \hline \end{array}$$

$$\begin{array}{r} 279 \\ + 453 \\ \hline \end{array}$$

$$\begin{array}{r} 874 \\ - 533 \\ \hline \end{array}$$

$$\begin{array}{r} 672 \\ - 532 \\ \hline \end{array}$$

$$\begin{array}{r} 635 \\ - 432 \\ \hline \end{array}$$

Escribe el letra los siguientes número

342 _____

185 _____

268 _____

423 _____

358 _____

371 _____

Lee y une al número

355 Trescientos cincuenta

305 Trescientos cinco

350 Trescientos cincuenta y cinco

266 doscientos seis

260 doscientos sesenta

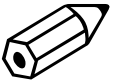
206 doscientos sesenta y seis

Un árbol tenía 385 hojas, al llegar el otoño se le cayeron 274. ¿Cuántas hojas le han quedado al árbol?

Un naranjo tiene 352 naranjas, si Julio ha cogido 142 naranjas. ¿Cuántas quedan en el árbol?

NOMBRE: _____

FECHA: _____



Realiza las siguientes operaciones

$$\begin{array}{r} 372 \\ + 351 \\ \hline \end{array}$$

$$\begin{array}{r} 527 \\ + 116 \\ \hline \end{array}$$

$$\begin{array}{r} 245 \\ + 274 \\ \hline \end{array}$$

$$\begin{array}{r} 61 \\ - 37 \\ \hline \end{array}$$

$$\begin{array}{r} 94 \\ - 28 \\ \hline \end{array}$$

$$\begin{array}{r} 85 \\ - 57 \\ \hline \end{array}$$

$$\begin{array}{r} \square 45 \\ + 57\square \\ \hline 71 \end{array}$$

$$\begin{array}{r} 27\square \\ + \square 19 \\ \hline 41 \end{array}$$

$$\begin{array}{r} 3\square 7 \\ + \square 67 \\ \hline 62 \end{array}$$

$$\begin{array}{r} 95 \\ - 58 \\ \hline \end{array}$$

$$\begin{array}{r} 42 \\ - 17 \\ \hline \end{array}$$

$$\begin{array}{r} 81 \\ - 38 \\ \hline \end{array}$$

Escribe en letra los siguientes número

471 _____

462 _____

402 _____

491 _____

482 _____

430 _____

Lee y une al número que corresponda

- 491 Cuatrocientos uno
- 401 Cuatrocientos diecinueve
- 419 Cuatrocientos noventa y uno

- 406 Cuatrocientos dieciseis
- 416 Cuatrocientos seis
- 460 Cuatrocientos sesenta

	394	291	198	377	428	399	349	489
+6								

	435	426	463	475	495	438	487	381
-4								

En el gimnasio hay 26 aros rojos y 38 aros verdes. ¿Cuántos aros hay en total?

En el coro del colegio hay 84 niños y 118 niñas. ¿Cuántas personas forman en coro del colegio?


Tengo un jarrón con 63 margaritas. Se han marchitado 16. ¿Cuántas margaritas quedan en el jarrón?

Joan tiene 15 cromos, Andrea 12 y Manu 16. ¿Cuántos cromos tienen entre los tres?

Janira ha ido al campo y ha recogido 37 bellotas y 45 castañas. ¿Cuántos frutos secos ha recogido?

En una avión caben 235 pasajeros. Si han quedado sin ocupar 133. ¿Cuántos pasajeros hay en el avión?

NOMBRE: _____ FECHA: _____



Realiza las siguientes operaciones

$$\begin{array}{r} 564 \\ + 148 \\ \hline \end{array}$$

$$\begin{array}{r} 274 \\ + 532 \\ \hline \end{array}$$

$$\begin{array}{r} 357 \\ + 284 \\ \hline \end{array}$$

$$\begin{array}{r} 587 \\ - 239 \\ \hline \end{array}$$

$$\begin{array}{r} 936 \\ - 583 \\ \hline \end{array}$$

$$\begin{array}{r} 672 \\ - 326 \\ \hline \end{array}$$

Escribe el número anterior y posterior

	354	
--	-----	--

	229	
--	-----	--

	400	
--	-----	--

	679	
--	-----	--

	426	
--	-----	--

	599	
--	-----	--

	305	
--	-----	--

	299	
--	-----	--

Escribe en letra los siguientes números

532 _____

517 _____

506 _____


570 _____

533 _____

555 _____

Realiza la descomposición de los siguientes números

583	$500 + 80 + 3$	590	
502		546	
528		577	



Haz grupos de 3 elementos

¿Cuántos grupos te han salido? _____

¿Cuántos elementos hay en cada grupo? _____

Calcula el total:

$$\underline{\quad} + \underline{\quad} + \underline{\quad} + \underline{\quad} = \underline{\quad}$$

$$\underline{\quad} \times \underline{\quad} = \underline{\quad}$$

En un barco viajan 375 pasajeros en clase primera y 485 en clase turista. ¿Cuántos pasajeros viajan en total en el barco?


Calculo mental:

$95 + 100 = \underline{\quad}$

$87 + 200 = \underline{\quad}$

$66 + 600 = \underline{\quad}$

$52 + 400 = \underline{\quad}$



Haz grupos de 2 elementos

¿Cuántos grupos te han salido? _____

¿Cuántos elementos hay en cada grupo? _____

Calcula el total:

$$\underline{\quad} + \underline{\quad} + \underline{\quad} + \underline{\quad} + \underline{\quad} + \underline{\quad} = \underline{\quad}$$

$$\underline{\quad} \times \underline{\quad} = \underline{\quad}$$

Alejandro tenía 82 canicas, si ahora tiene 69. ¿Cuántas canicas le ha regalado a Chefren?

$38 + 400 = \underline{\quad}$

$94 + 300 = \underline{\quad}$

$21 + 700 = \underline{\quad}$

$69 + 100 = \underline{\quad}$

En un teatro había 138 butacas y colocaron 157 más. ¿Cuántas butacas hay ahora en el teatro?

En una obra se han usado 289 azulejos rosas y 136 azulejos blancos para alicatar un baño. ¿Cuántos azulejos blancos menos que rosas han usado?

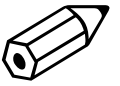
Adrián tenía una cesta con 83 cerezas. Se comió 37. ¿Cuántas cerezas quedan en la cesta?

En un colegio había 186 alumnos y entraron 142 más. ¿Cuántos alumnos hay ahora en el colegio?

En un juego de construcción hay 267 piezas verdes y 143 piezas rojas. ¿Cuántas piezas rojas menos que verdes hay?

Brian tenía 65 cartas de monstruos. Perdió 17 jugando con Rabin. ¿Cuántas cartas le quedan a Brian?

NOMBRE: _____ FECHA: _____



Completa

$3 + 3 + 3$	el 3 se repite 3 veces	$3 \times 3 =$
$3 + 3 + 3 + 3 + 3 + 3$	el ___ se repite ___ veces	___ \times ___ =
$3 + 3 + 3 + 3$		
$3 + 3 + 3 + 3 + 3 + 3 + 3 + 3 + 3 + 3 + 3$		
$3 + 3$		
$3 + 3 + 3 + 3 + 3 + 3 + 3 + 3 + 3$		
$3 + 3 + 3 + 3 + 3 + 3 + 3$		

Une cada multiplicación con la suma que le corresponde

3×4
3×7
3×2

$2+2$
$2+2+2+2+2+2+2$
$2+2+2+2$

3×9
3×5
3×6

$2+2+2+2+2+2$
$2+2+2+2+2+2+2+2+2$
$2+2+2+2+2$

Coloca y realiza las siguientes operaciones

429 + 137

266 + 358

489 + 333

643 - 479

720 - 406

842 - 673

$2 \times 5 =$

$3 \times 7 =$

$2 \times 6 =$

$2 \times 2 =$

$3 \times 4 =$

$3 \times 9 =$

$2 \times 8 =$

$3 \times 2 =$

Un cine tiene una capacidad de 180 personas, si hay vacías 67 butacas. ¿Cuántas personas hay en el cine?

En la hucha tengo 78 euros. Si me quiero comprar un juego para el ordenador que cuesta 159 euros. ¿Cuánto dinero me falta?


Un año tiene 365 días. Si ya han pasado 277 días. ¿Cuántos días faltan para que termine el año?

Un naranjo tiene 362 naranjas. He cogido 248 naranjas. ¿Cuántas naranjas quedan en el árbol?

En un tren van montados 377 pasajeros. Si en una parada suben 86. ¿Cuántos pasajeros hay en total en el tren?

Tengo una colección de 263 pegatinas. Si me regalan 97 pegatinas. ¿Cuántas pegatinas tengo ahora?

NOMBRE: _____ FECHA: _____



Completa

$4 + 4 + 4 + 4 + 4$	el 4 se repite 5 veces	$4 \times 5 =$
$4 + 4 + 4 + 4 + 4 + 4 + 4 + 4$	el ____ se repite ____ veces	__ \times __ =
$4 + 4 + 4 + 4$		
$4 + 4 + 4$		
$4 + 4 + 4 + 4 + 4 + 4 + 4 + 4 + 4 + 4$		
$4 + 4 + 4 + 4 + 4 + 4$		
$4 + 4 + 4 + 4 + 4 + 4 + 4$		

Une cada multiplicación con la suma que le corresponde

4×6	$4+4+4+4+4+4+4$	4×2	$4+4+4$
4×7	$4+4+4+4+4+4+4+4+4$	4×3	$4+4+4+4+4+4+4+4+4$
4×8	$4+4+4+4+4+4$	4×9	$4+4$

Coloca y realiza las siguientes operaciones

$356 + 274$

$275 + 78$

$396 + 58$

$793 - 584$

$864 - 199$

$504 - 358$

$4 \times 6 =$

$4 \times 8 =$

$4 \times 10 =$

$4 \times 2 =$

$4 \times 5 =$

$4 \times 7 =$

$4 \times 1 =$

$4 \times 10 =$

Escribe en letra los siguientes números

275 _____

308 _____

460 _____

503 _____

184 _____

636 _____

Realiza la descomposición de los siguientes números

472	$400 + 70 + 2$	284	
363		382	
507		580	

Si en una caja hay 95 galletas y me he comido 39. ¿Cuántas galletas quedan en la caja?

Un ciclista recorre 25 kilómetros y descansa para comerse el almuerzo, después continúa 36 kilómetros más. ¿Cuántos kilómetros ha recorrido?

Calculo mental:

$136 + 200 = \underline{\quad}$

$310 + 26 = \underline{\quad}$

$168 + 400 = \underline{\quad}$

$380 + 19 = \underline{\quad}$

$574 - 300 = \underline{\quad}$

$376 - 50 = \underline{\quad}$

$484 + 200 = \underline{\quad}$

$636 - 30 = \underline{\quad}$

NOMBRE: _____

FECHA: _____



Completa

$6 + 6 + 6 + 6 + 6 + 6 + 6 + 6 + 6 =$	el 6 se repite 9 veces	$6 \times 9 =$
$6 + 6 + 6 + 6 =$	el ____ se repite ____ veces	__ \times __ =
$6 + 6 + 6 + 6 + 6 =$		
$6 + 6 =$		
$6 + 6 + 6 + 6 + 6 + 6 + 6 =$		
$6 + 6 + 6 =$		
$6 + 6 + 6 + 6 + 6 + 6 + 6 + 6 =$		

Une cada multiplicación con la suma que le corresponde

6×9	$6+6+6+6+6+6+6+6+6$	$6 \times 5 =$	$6+6+6+6+6+6+6+6+6$
6×7	$6+6+6+6$	$6 \times 9 =$	$6+6+6+6+6$
6×4	$6+6+6+6+6+6+6$	$6 \times 8 =$	$6+6+6+6+6+6+6+6$

Coloca y realiza las siguientes operaciones

$164 + 278$

$308 + 457$

$281 + 549$

$373 - 175$

$519 - 254$

$823 - 548$

$6 \times 3 =$

$6 \times 5 =$

$6 \times 7 =$

$6 \times 10 =$

$6 \times 9 =$

$6 \times 4 =$

$6 \times 10 =$

$6 \times 6 =$

Escribe en letra los siguientes números

380 _____

405 _____

662 _____

707 _____

816 _____

355 _____

Realiza la descomposición de los siguientes números

555	500 + 50 + 5	471	
309		360	
792		386	

Erika tiene un cuaderno con 77 hojas, arranca 19 hojas. ¿Cuántas hojas le quedan en el cuaderno?

Joan y David han ido a coger moras al campo. Joan ha cogido 153 y entre los dos han cogido 264. ¿Cuántas moras ha cogido David?

Calculo mental:

$320 + 42 + 5 = \underline{\quad}$

$245 + 30 + 3 = \underline{\quad}$

$410 + 55 + 2 = \underline{\quad}$

$179 + 20 + 3 = \underline{\quad}$

$475 - 30 = \underline{\quad}$

$683 - 50 = \underline{\quad}$

$877 - 100 = \underline{\quad}$

$786 - 70 = \underline{\quad}$

NOMBRE: _____ FECHA: _____



Completa

$7 + 7 + 7 + 7 =$	el 7 se repite 4 veces	$7 \times 4 =$
$7 + 7 + 7 + 7 + 7 + 7 + 7 + 7 + 7 + 7$	el ____ se repite ____ veces	__ \times __ =
$7 + 7 + 7 + 7 + 7 + 7 + 7 =$		
$7 + 7 + 7 =$		
$7 + 7 + 7 + 7 + 7 + 7 + 7 + 7 + 7 =$		
$7 + 7 + 7 + 7 + 7 + 7 =$		
$7 + 7 + 7 + 7 + 7 =$		

Une cada multiplicación con la suma que le corresponde

7×5	$7+7$	$7 \times 9 =$	$7+7+7+7+7+7+7$
7×3	$7+7+7+7+7$	$7 \times 6 =$	$7+7+7+7$
7×2	$7+7+7$	$7 \times 4 =$	$7+7+7+7+7+7+7+7+7+7$

Coloca y realiza las siguientes operaciones

546 + 275

+			
<hr/>			

384 + 152

+			
<hr/>			

483 + 119

+			
<hr/>			

946 - 572

-			
<hr/>			

485 - 259

-			
<hr/>			

836 - 178

-			
<hr/>			

$7 \times 10 =$

$7 \times 7 =$

$7 \times 2 =$

$7 \times 5 =$

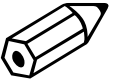
$7 \times 8 =$

$7 \times 4 =$

$7 \times 3 =$

$7 \times 6 =$

Escribe en letra los siguientes números



274 _____

938 _____

620 _____

444 _____

406 _____

700 _____

Realiza la descomposición de los siguientes números

676	600 + 70 + 6	505	
491		737	
728		690	

Alejandro ha comprado un lápiz que cuesta 50 céntimos y una libreta que cuesta 75 céntimos. ¿Cuánto dinero se ha gastado?

Alba tiene 26 cromos y Chefren tiene 8 cromos menos que Alba. ¿Cuántos cromos tiene Chefren?

Calculo mental:

$570 + 13 + 2 = \underline{\quad}$

$333 + 30 + 3 = \underline{\quad}$

$895 - 50 = \underline{\quad}$

$486 - 400 = \underline{\quad}$

$820 + 46 + 3 = \underline{\quad}$

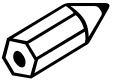
$685 + 10 + 2 = \underline{\quad}$

$629 - 10 = \underline{\quad}$

$693 - 50 = \underline{\quad}$

NOMBRE: _____

FECHA: _____



Completa

$8 + 8 + 8 + 8 + 8 + 8 =$	el 8 se repite 6 veces	$8 \times 6 =$
$8 + 8 + 8 + 8 + 8 + 8 + 8 + 8 =$	el ____ se repite ____ veces	__ \times __ =
$8 + 8 + 8 =$		
$8 + 8 + 8 + 8 + 8 =$		
$8 + 8 + 8 + 8 + 8 + 8 + 8 + 8 + 8 =$		
$8 + 8 + 8 + 8 =$		

Une cada multiplicación con la suma que le corresponde

8×5
8×4
8×7

$8+8+8+8+8+8+8$
$8+8+8+8+8$
$8+8+8+8$

$8 \times 9 =$
$8 \times 3 =$
$8 \times 6 =$

$8+8+8+8+8+8+8+8+8$
$8+8+8+8+8+8$
$8+8+8$

Coloca y realiza las siguientes operaciones

758 + 128

395 + 242

504 + 297

847 - 229

768 - 494

973 - 497

2 4
X 2

--	--

3 3
X 3

--	--

1 4
X 2

--	--

1 2
X 3

--	--

3 2
X 2

--	--

1 1
X 6

--	--

4 2
X 2

--	--

2 3
X 3

--	--

NOMBRE: _____

FECHA: _____



Escribe en letra los siguientes números

936 _____	500 _____
708 _____	606 _____
399 _____	999 _____

Realiza la descomposición de los siguientes números

857	800 + 50 + 7
605	
943	

388	
978	
660	

Dentro del estuche tengo 26 pinturas y fuera del estuche 19. ¿Cuántas pinturas tiene mi estuche?

Tengo que escribir un cuento de 86 palabras, si tengo escritas 39. ¿Cuántas palabras me faltan por escribir?

Calculo mental:

$$630 + 36 + 3 = \underline{\quad}$$
$$453 + 20 + 5 = \underline{\quad}$$

$$507 + 70 + 2 = \underline{\quad}$$
$$370 + 15 + 2 = \underline{\quad}$$

$$765 - 40 = \underline{\quad}$$
$$456 - 32 = \underline{\quad}$$

$$759 - 320 = \underline{\quad}$$
$$967 - 45 = \underline{\quad}$$