




T13
Gráfica





Cuento y escribo el número de cada animal.



Escribo en la tabla.

Número de animales

Animales					
Número	6				

Represento la tabla en la gráfica.
Dibujó los puntos que corresponden al número.

Número de animales

●				
●				
●				
●				
●				
●				
conejos	patos	caballos	jirafas	elefantes

a) ¿De cuál animal hay más?


b) ¿De cuál animal hay menos?

c) ¿Qué hay más? ¿Conejos o caballos?

d) Cuáles son los animales de los que hay la misma cantidad








Observo.



Escribo el número de frutas en la tabla.

Número de frutas

Frutas					
Número					

Muestro la cantidad de frutas en la gráfica.

Número de frutas

manzanas	bananos	sandías	mandarinas	piñas

a) ¿De cuál fruta hay más?

()

b) ¿Cuántos bananos hay?

()

c) ¿Cuales son las frutas de las que hay la misma cantidad?

()


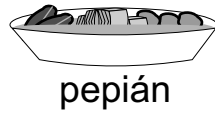
()





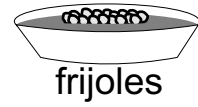
En una sección de primer grado se realizó una encuesta para averiguar sobre comidas preferidas. Observo y leo los resultados.



¡Nos gusta caldo de res!



¡Nos gusta pepián!



Escribo en la tabla.

comidas	caldo de res	pepián	frijoles	ensalada	carne asada
número de personas					

Represento los resultados en la gráfica. Observo el número en la tabla y dibujo los puntos que corresponden.

Comidas preferidas

●				
●				
●				
●				
●				
caldo de res	pepián	frijoles	ensalada	carne asada

a) ¿Cuál comida es la más preferida?

()

b) ¿Cuál comida es la que menos gusta?

()

c) ¿Cuál comida gusta más?
¿pepián o ensalada?

()