


¿Cuál es tu nombre? .....



..... Fecha: .....

### 1) Observa y completa:


a)



¿Cuántos globos hay en total?,  $5 \times 3 = \dots\dots\dots$ , hay  $\dots\dots\dots$  globos.



¿Cuántos globos recibe cada niño?,  $15 : 5 = \dots\dots\dots$ ,  
Cada niño recibe  $\dots\dots\dots$  globos.



¿Cuántos globos recibe cada niño?,  $15 : 3 = \dots\dots\dots$ ,  
Cada niño recibe  $\dots\dots\dots$  globos.



























