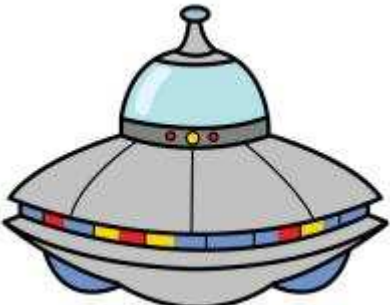







Dibuja el camino empezando por el 0 y acabando por el 500, contando de cinco en cinco.

435	440	445	460	465	490	495			
430	425	450	455	470	485	500			
415	420	395	390	475	480				
410	405	400	385	380	375	370	365	350	345
275	280	285	300	305	310	315	360	355	340
270	265	290	295	210	205	320	325	330	335
255	260	225	220	215	200	195	180	175	170
250	235	230	45	50	55	190	185	160	165
245	240		40	65	60	85	90	155	150
			35	70	75	80	95	140	145
			30	25	20	105	100	135	130
			5	10	15	110	115	120	125



Dibuja el camino empezando por el 0 y acabando por el 500, contando de cinco en cinco.

315	320	355	360	365	490	495			
310	325	350	345	370	485	500			
305	330	335	340	375	480				
300	295	390	385	380	475	470	465	460	455
285	290	395	400	405	410	415	430	435	450
280	275	270	265	200	195	420	425	440	445
245	250	255	260	205	190	185	180	175	170
240	225	220	215	210	95	100	105	160	165
235	230		30	35	90	85	110	155	150
			25	40	45	80	115	120	145
			20	15	50	75	70	125	140
			5	10	55	60	65	130	135



Dibuja el camino empezando por el 0 y acabando por el 500, contando de cinco en cinco.

300	295	290	285					40	45	
305	310	315	280				30	35	50	
350	345	320	275				25	20	55	
355	340	325	270	255	250	5	10	15	60	
360	335	330	265	260	245	80	75	70	65	
365	370	375	390	395	240	85	90	105	110	
430	425	380	385	400	235	230	95	100	115	
435	420	415	410	405	220	225	130	125	120	
440	445	490	495	500	215	210	135	140	145	
455	450	485					205	200	155	150
460	475	480					190	195	160	165
465	470						185	180	175	170



Dibuja el camino empezando por el 0 y acabando por el 500, contando de cinco en cinco.

60	55	40	35					220	225
65	50	45	30				210	215	230
70	75	80	25				205	200	235
105	100	85	20	5	180	185	190	195	240
110	95	90	15	10	175	290	285	250	245
115	150	155	160	165	170	295	280	255	260
120	145	140	435	430	425	300	275	270	265
125	130	135	440	415	420	305	310	325	330
470	465	450	445	410	405	400	315	320	335
475	460	455				395	390	385	340
480	495	500				370	375	380	345
485	490					365	360	355	350

Dibuja el camino empezando por el 5 y acabando por el 500, contando de cinco en cinco.

			5	10	15	20	25	30	35
			70	65	60	55	50	45	40
			75	130	135	150	155	170	175
295	290		80	125	140	145	160	165	180
300	285	280	85	120	115	200	195	190	185
305	310	275	90		110	205	210	215	220
320	315	270	95	100	105	240	235	230	225
325	330	265	260	255	250	245	480	485	490
340	335	390	395	430	435	470	475	500	495
345	350	385	400	425	440	465			
360	355	380	405	420	445	460			
365	370	375	410	415	450	455			



Dibuja el camino empezando por el 5 y acabando por el 500, contando de cuatro en cuatro.

			5	10	15	20	25	30	35
			70	65	60	55	50	45	40
			75	130	135	150	155	170	175
325	320		80	125	140	145	160	165	180
330	315	310	85	120	115	200	195	190	185
335	340	305	90		110	205	210	215	220
350	345	300	95	100	105	240	235	230	225
355	360	295	260	255	250	245	480	485	490
370	365	290	265	450	455	470	475	500	495
375	380	285	270	445	460	465			
390	385	280	275	440	435	430			
395	400	405	410	415	420	425			



Dibuja el camino empezando por el 0 y acabando por el 500, contando de cinco en cinco.

0			5	10	15	20	25	240	245
			50	45	40	35	30	325	250
			55	60	215	220	225	230	255
95	90	85		65	210	325	320	315	260
100	105	80	75	70	205	330	335	310	265
115	110	185	190	195	200	345	340	305	270
120	175	180	365	360	355	350		300	275
125	170	375	370	425	430	435	440	295	280
130	165	380	415	420	455	450	445	290	285
135	160	385	410	465	460	495	500		
140	155	390	405	470	485	490			
145	150	395	400	475	480				

Dibuja el camino empezando por el 0 y acabando por el 500, contando de cinco en cinco.

			5	10	15	20	45	50	
			170	165	160	25	40	55	60
			175	180	155	30	35	70	65
205	200	195	190	185	150	105	100	75	80
210	285	290	295	300	145	110	95	90	85
215	280	315	310	305	140	115	120	415	420
220	275	320	375	380	135	130	125	410	425
225	270	325	370	385	390	395	400	405	430
230	265	330	365	460	455	450	445	440	435
235	260	335	360	465	490	495			
240	255	340	355	470	485	500			
245	250	345	350	475	480				

Dibuja el camino empezando por el 0 y acabando por el 500, contando de cinco en cinco.

			5	10	15	20	45	50	
			130	125	120	25	40	55	60
			135	140	115	30	35	70	65
255	250	165	160	145	110	105	100	75	80
260	245	170	155	150	195	200	95	90	85
265	240	175	180	185	190	205	470	475	480
270	235	230	225	220	215	210	465	460	485
275	280	285	410	415	430	435	450	455	490
310	305	290	405	420	425	440	445	500	495
315	300	295	400	395	380	375			
320	325	340	345	390	385	370			
	330	335	350	355	360	365			