

NOMBRE:

FECHA:

Recorta y reparte, en partes iguales, los cerdos a cada granja.



2. Contesta:

¿Cuántos cerdos has puesto en cada granja? _____


¿Ha sobrado algún cerdo? _____

¿Hay la misma cantidad en cada granja? _____

3. Ahora vamos a hacer la división, para ello contesta:

¿Cuántas hay en total? _____

¿A cuántos tenemos que repartir? _____



NOMBRE:

FECHA:


1. Reparte, en partes iguales, las rosas entre las niñas.



María



Marta



Pilar

2. Contesta:

¿Cuántas flores tiene María? _____

¿Cuántas flores tiene Marta? _____

¿Cuántas flores tiene Pilar? _____

¿Ha sobrado alguna flor? _____

¿Tienen todas la misma cantidad? _____

3. Ahora vamos a hacer la división, para ello contesta:

¿Cuántas hay en total? _____

¿A cuántos tenemos que repartir? _____

$$9 \overline{) 3}$$


NOMBRE:

FECHA:

1. Reparte, en partes iguales, las alcachofas entre las niñas.



Ana



Julia



María



Mar

2. Contesta:

¿Cuántas alcachofas comerá Ana? _____

¿Cuántas alcachofas comerá Julia? _____

¿Cuántas alcachofas comerá María? _____

¿Cuántas alcachofas comerá Mar? _____

¿Ha sobrado alguna alcachofa? _____

¿Comerán todas la misma cantidad? _____

3. Ahora vamos a hacer la división, para ello contesta:


¿Cuántas hay en total? _____

¿A cuántos tenemos que repartir? _____

NOMBRE:

FECHA:

1. Reparte, en partes iguales, las zanahorias entre las niñas.



Paula Ana Carmen María Sol

2. Contesta:

¿Cuántas zanahorias comerá Paula? _____

¿Cuántas zanahorias comerá Ana? _____

¿Cuántas zanahorias comerá Carmen? _____

¿Cuántas zanahorias comerá María? _____

¿Cuántas zanahorias comerá Sol? _____

¿Ha sobrado alguna zanahoria? _____

¿Comerán todas la misma cantidad? _____

3. Ahora vamos a hacer la división, para ello contesta:

¿Cuántas hay en total? _____

¿A cuántos tenemos que repartir? _____