

# NUMEROS HASTA EL 50

Escribe los números del 50 al 0

---



---



---



---

Rodea en cada columna el número más pequeño.

10	2	3	9	18
1	14	15	6	2
14	5	0	3	19
9	4	13	7	15
19	3	0	14	11

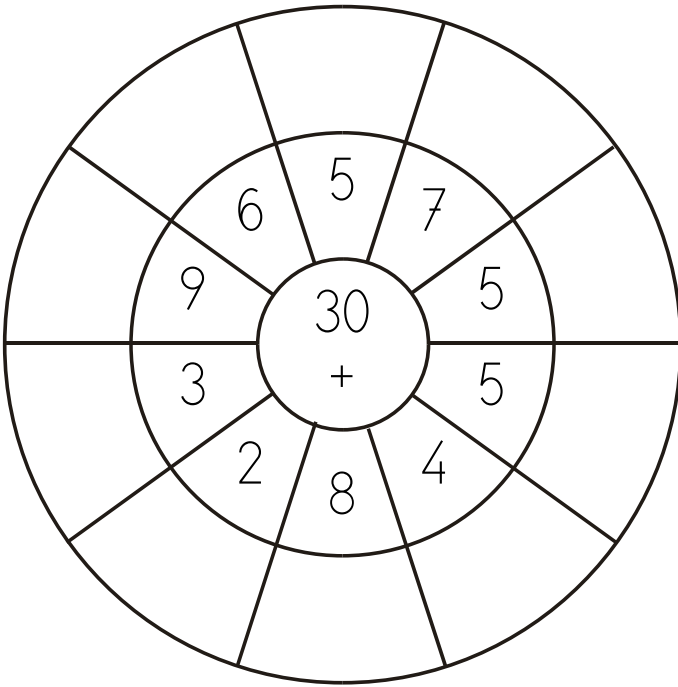
Escribe al anterior y el posterior de estos números

___ 9 ___	___ 6 ___	___ 10 ___	___ 4 ___
___ 21 ___	___ 2 ___	___ 20 ___	___ 8 ___

Continúa la serie de 2 en 2.

20 - 18 - 16 - \_\_\_\_\_

Cálculo mental. Completa el dibujo con la suma de las cantidades. Colorea los resultados impares.



Escribe todos los números impares del 1 al 20.

---



---

Continúa la serie de 5 en 5.

0 - 5 - 10 -

---

Continúa la serie de 10 en 10 hasta el 50.

10 - 20 -

---



---

Rodea los números más pequeños que 40

44- 6- 34- 23- 50- 13- 42- 10- 34- 7- 39

Rodea los números mayores que el 30

29- 4- 21- 11- 9- 40- 14- 34- 8- 0- 3- 30

Rodea en cada columna el número más pequeño.

19	6	11	17	17
12	14	4	18	20
11	7	10	15	11
6	14	17	20	5
12	9	5	12	1

Escribe hacia atrás desde el 40 al 30

---

Compara estos números. Añade:  $>$  ,  $<$  o  $=$

8 ___ 15	11 ___ 9	29 ___ 27	11 ___ 17
17 ___ 20	18 ___ 5	11 ___ 15	11 ___ 11

---

Escribe cómo se leen estos números.

4

---

48

---

47

---

13

---

27

---

22


---

Continúa la serie de 3 en 3.

10- 14- 17-

---

Repasa con cuidado siguiendo los puntos.




Escribe los números impares del 30 al 50.


---

---

Pinta los peces que van hacia la DERECHA.



Pinta los animales que van hacia la IZQUIERDA



Pinta el dibujo de la derecha del cubo y el de la izquierda de la flor.

