

Nombre: \_\_\_\_\_ Fecha: \_\_\_\_\_

1.- Ayúdate con las fichas y resta. Después colorea

rojo ▶ 2  
 azul ▶ 3  
 verde ▶ 4

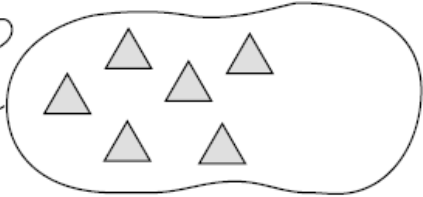
3 - 1	5 - 2	7 - 3	4 - 2
6 - 3	5 - 3	6 - 4	6 - 2
7 - 5	8 - 5	9 - 5	8 - 6

2.- Completa las series

(8)  $-1$  (7)  $-1$  (6)  $-2$  ( )  $-2$  ( )  
 (9)  $-1$  (8)  $-2$  ( )  $-1$  ( )  $-2$  ( )  
 (9)  $-1$  ( )  $-3$  ( )  $-3$  ( )  $-1$  ( )

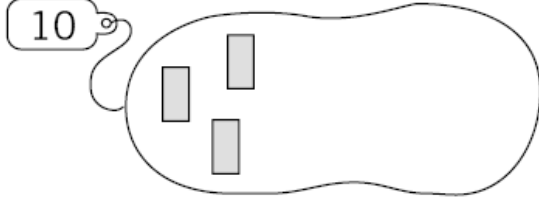
3.- Dibuja los que faltan y completa las sumas

10



$10 = \boxed{6} + \square$

10

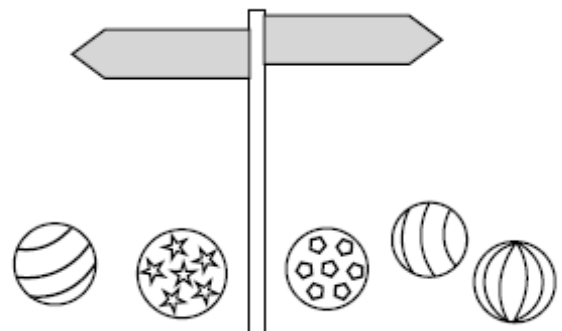


$10 = \square + \square$

4. Colorea

rojo Las pelotas que están a la derecha de la señal.

verde Las pelotas que están a la izquierda de la señal.



5.- Completa

$10 = 9 + \square \quad || \quad 10 = 8 + \square \quad || \quad 10 = 7 + \square$

$10 = 6 + \square \quad || \quad 10 = 5 + \square \quad || \quad 10 = 4 + \square$

6.- Cuanta y completa cuántas flores hay




• A la derecha del árbol ►

• A la izquierda del árbol ►


• En total ►  +  =

7.- Rodea 10 y completa



1 decena y \_\_\_ unidades

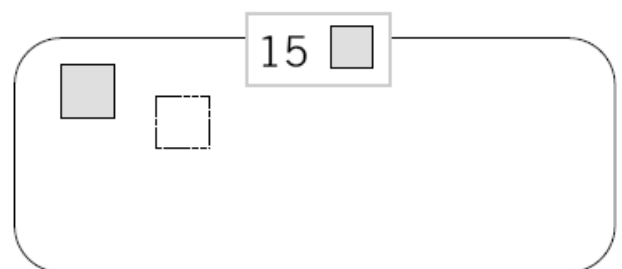
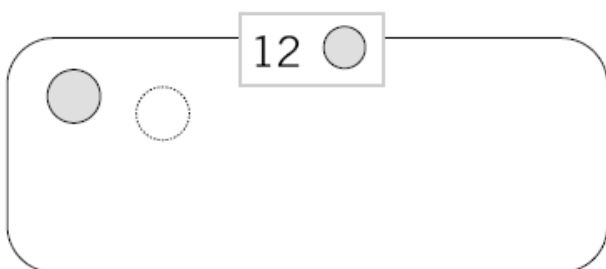
$\boxed{10} + \square = \square$



\_\_\_ decena y \_\_\_ unidades

$\square + \square = \square$

8.- Dibuja



9.- Completa las series



Nombre: \_\_\_\_\_ Fecha: \_\_\_\_\_

1.- Une los números y descubre el dibujo. Píntalo



2.- Lee y une con la cifra con la que se corresponda. Copia

10

- once

\_\_\_\_\_

11

- catorce

\_\_\_\_\_

12

- dieciséis

\_\_\_\_\_

13

- trece

\_\_\_\_\_

14

- diecinueve

\_\_\_\_\_

15

- diez

\_\_\_\_\_

16

- diecisiete

\_\_\_\_\_

17

- doce

\_\_\_\_\_

18

- quince

\_\_\_\_\_

19

- dieciocho

\_\_\_\_\_

3.- Rodea la decena, suma y forma los números



\_\_\_\_\_ decena y \_\_\_\_\_ unidades



\_\_\_\_\_ + \_\_\_\_\_ = \_\_\_\_\_



\_\_\_\_\_ decena y \_\_\_\_\_ unidades



\_\_\_\_\_ + \_\_\_\_\_ = \_\_\_\_\_



\_\_\_\_\_ decena y \_\_\_\_\_ unidades



\_\_\_\_\_ + \_\_\_\_\_ = \_\_\_\_\_



\_\_\_\_\_ decena y \_\_\_\_\_  
unidades

\_\_\_\_\_ + \_\_\_\_\_ = \_\_\_\_\_

Nombre: \_\_\_\_\_ Fecha: \_\_\_\_\_

1.- Realiza las sumas y pinta



- 18 rosa
- 19 azul
- 15 amarillo
- 17 verde

2.- Lee y escribe el número en cifra

doce	_____	dieciséis	_____
quince	_____	doce	_____
dieciocho	_____	catorce	_____

3- Escribe los números que faltan

0			3				7		
---	--	--	---	--	--	--	---	--	--

	11				15			18	
--	----	--	--	--	----	--	--	----	--

3.- Rodea la decena, suma y forma los números



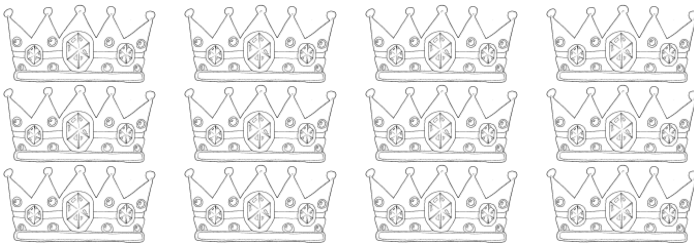
\_\_\_\_\_ decena y \_\_\_\_\_ unidades

\_\_\_\_\_ + \_\_\_\_\_ = \_\_\_\_\_




\_\_\_\_\_ decena y \_\_\_\_\_ unidades

\_\_\_\_\_ + \_\_\_\_\_ = \_\_\_\_\_



\_\_\_\_\_ decena y \_\_\_\_\_ unidades

\_\_\_\_\_ + \_\_\_\_\_ = \_\_\_\_\_

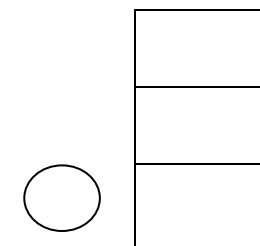


\_\_\_\_\_ decena y \_\_\_\_\_ unidades

\_\_\_\_\_ + \_\_\_\_\_ = \_\_\_\_\_

4. Resuelve el problema y dibújalo

He puesto en el árbol cinco bolas rojas, seis estrellas verdes y cuatro lazos azules. ¿Cuántos adornos he puesto en el árbol?



Nombre: \_\_\_\_\_ Fecha: \_\_\_\_\_

1.- Realiza las sumas y pinta del color correspondiente



16 rojo

9 verde

15 rosa

12 verde

19 amarillo

10 azul

14 marrón

2.- Lee y escribe el número en letra

15 \_\_\_\_\_ 11 \_\_\_\_\_

17 \_\_\_\_\_ 16 \_\_\_\_\_

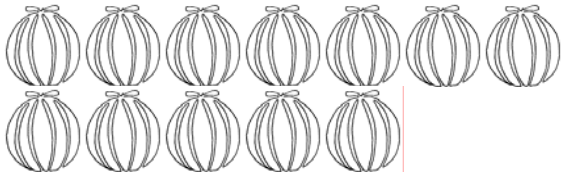
19 \_\_\_\_\_ 10 \_\_\_\_\_

3.- Escribe los números que faltan

0		2				6			
---	--	---	--	--	--	---	--	--	--

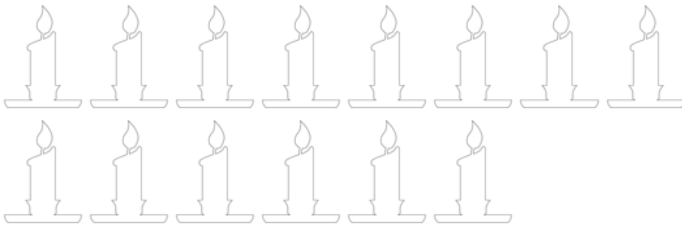
		12				16			
--	--	----	--	--	--	----	--	--	--

3.- Rodea la decena, suma y forma los números




\_\_\_\_\_ decena y \_\_\_\_\_ unidades

\_\_\_\_\_ + \_\_\_\_\_ = \_\_\_\_\_




\_\_\_\_\_ decena y \_\_\_\_\_ unidades

\_\_\_\_\_ + \_\_\_\_\_ = \_\_\_\_\_



\_\_\_\_\_ decena y \_\_\_\_\_ unidades

\_\_\_\_\_ + \_\_\_\_\_ = \_\_\_\_\_

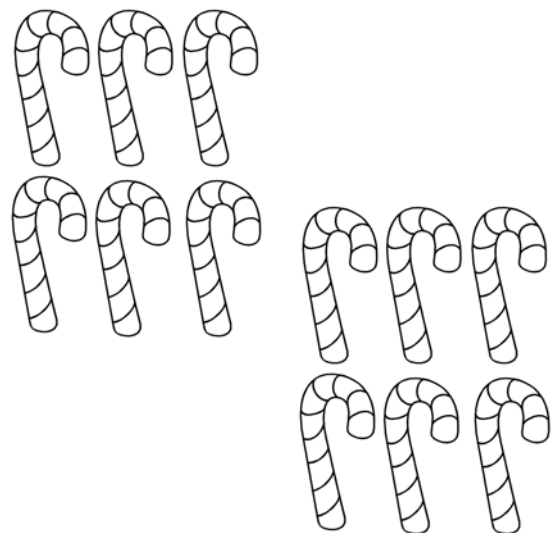


\_\_\_\_\_ decena y \_\_\_\_\_ unidades

\_\_\_\_\_ + \_\_\_\_\_ = \_\_\_\_\_

4. Resuelve el problema y tacha

Me han regalado 12 bastones navideños de caramelo. Me he comido 5. ¿Cuántos me quedan?



	D	U
○		



--	--	--





Nombre: \_\_\_\_\_ Fecha: \_\_\_\_\_

• Rodea

rojo ▶ Los números mayores que 14

azul ▶ Los números menores que 16

9	12	7	18	15
13	19	17	10	

• Ordena

De mayor a menor

12	9	6		
	15	17		

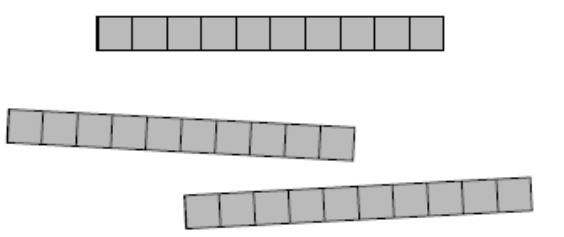
▶

De menor a mayor

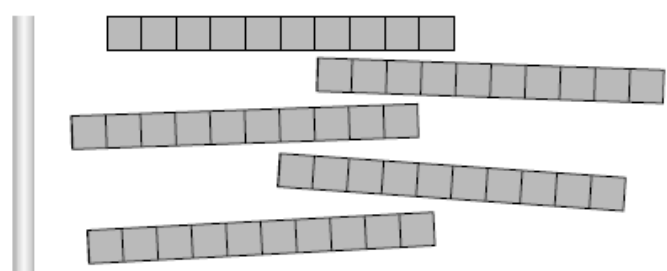
3	14	19		
	8	11		

▶

• Cuenta las decenas. ¿Cuántas unidades son?



\_\_\_\_ decenas = \_\_\_\_ unidades



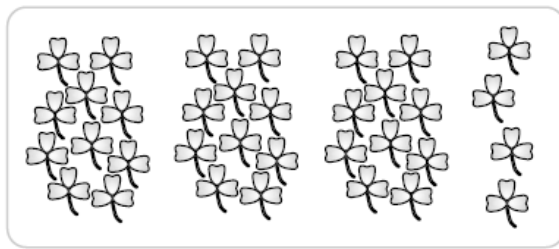
\_\_\_\_ decenas = \_\_\_\_ unidades

• Completa las series

10 20 30

26 27 28

- Cuenta, haz grupos de 10 y completa



\_\_\_\_\_ decenas y \_\_\_\_\_ unidades

$$\boxed{\phantom{00}} + \boxed{\phantom{00}} = \boxed{\phantom{00}}$$

- Relaciona

Veinte	30 unidades	2 decenas
Treinta	90 unidades	5 decenas
Cincuenta	20 unidades	7 decenas
Setenta	70 unidades	3 decenas
Noventa	50 unidades	9 decenas

- Completa las series

(18)  $\rightarrow +1$  (19)  $\rightarrow +2$  ( )  $\rightarrow +2$  ( )  $\rightarrow +1$  ( )  $\rightarrow +2$  ( )

(27)  $\rightarrow +1$  (28)  $\rightarrow +2$  ( )  $\rightarrow +1$  ( )  $\rightarrow +2$  ( )  $\rightarrow +1$  ( )

- Completa y colorea los camiones

rojo $\rightarrow$ El primero y el sexto.	verde $\rightarrow$ El quinto y el noveno.
azul $\rightarrow$ El tercero y el séptimo.	amarillo $\rightarrow$ El cuarto y el octavo.



- Realiza las siguientes operaciones

$35 + 23 =$

$41 + 32 =$

$86 - 63 =$

$75 - 44 =$





Nombre: \_\_\_\_\_ Fecha: \_\_\_\_\_

• Completa las tablas

+6	4	5	6	7
	10			

-2	8	9	10	11
	6			

+7	2	3	4	5

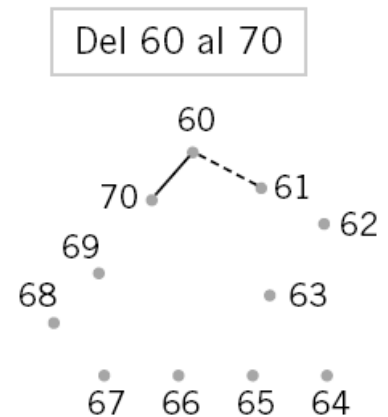
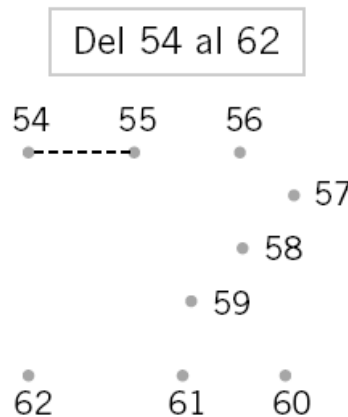
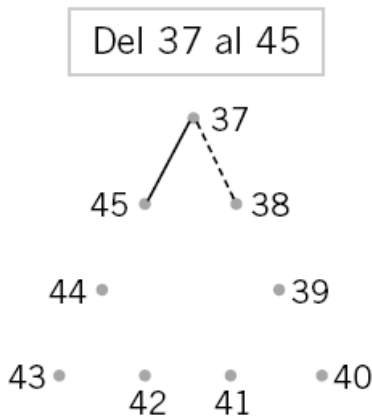
-6	9	10	11	12

• Relaciona

Veintinueve                      34  
 Treinta y cuatro                29  
 Cuarenta y tres                43  
 Cincuenta y seis               65  
 Sesenta y cinco                56

2 decenas y 9 unidades  
 4 decenas y 3 unidades  
 6 decenas y 5 unidades  
 3 decenas y 4 unidades  
 5 decenas y 6 unidades

• Une los puntos. Repasa y colorea



• Realiza las siguientes operaciones

$43 + 15 =$

$51 + 13 =$

$96 - 53 =$


$82 - 71 =$





- Dibuja en cada vagón la figura o la línea que se indica


- |               |                 |           |                       |
|---------------|-----------------|-----------|-----------------------|
| En el primero | ▶ Un triángulo  | En el 2.º | ▶ Una línea recta     |
| En el cuarto  | ▶ Un rectángulo | En el 3.º | ▶ Una línea curva     |
| En el sexto   | ▶ Un círculo    | En el 5.º | ▶ Una línea poligonal |



- Escribe el número anterior y posterior

_____ 34 _____	_____ 29 _____
_____ 46 _____	_____ 59 _____
_____ 58 _____	_____ 70 _____

- Colorea el coche que va en tercera posición



- Tengo una caja con 12 pinturas. Si fuera de la caja tengo 4. ¿Cuántas pinturas hay dentro de la caja?

OPERACIÓN



SOLUCIÓN .....



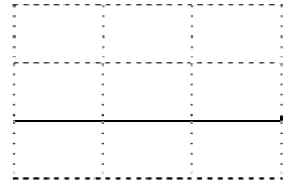
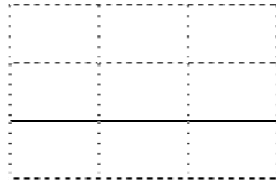
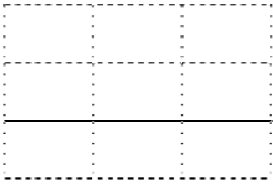
- Realiza las siguientes operaciones

$33+55=$

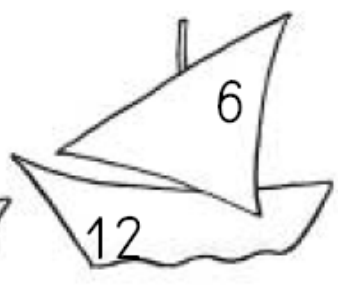
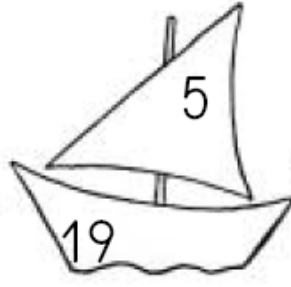
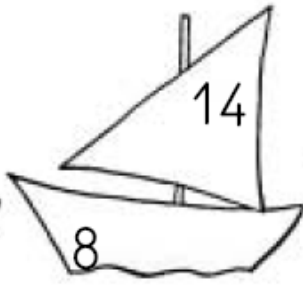
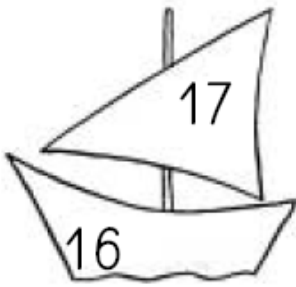
$52+35=$

$77-46=$

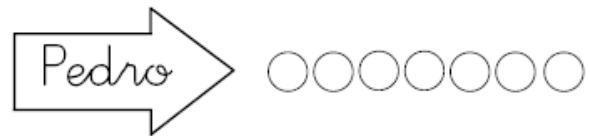
$98-46=$



- Rodea el número mayor



- Observa, cuenta, completa y calcula



María tiene ..... bolas negras.

Pedro tiene ..... bolas blancas.


¿Quién tiene más? .....

¿Quién tiene menos? .....

Entre los dos tienen ..... bolas

OPERACIÓN

- Une con flechas



séptimo

quinto

tercero

sexto

cuarto

primero

segundo





- Realiza las siguientes operaciones

$27 + 12 =$

$42 + 25 =$

$86 - 35 =$

$78 - 64 =$





- Lee el problema, dibújalo y realiza la operación.

En una pecera hay 9 peces de colores, 7 son de color naranja y los otros son de color verde. ¿Cuántos peces hay de color verde en la pecera?

	D	U

Hay \_\_\_\_\_ peces azules

- Lee el problema, dibújalo y realiza la operación.

Nerea tiene 5 canicas e Ismael tiene 4 canicas más que Nerea. ¿Cuántas canicas tiene Ismael?

	D	U

Nerea                      Ismael

Ismael tiene \_\_\_\_\_ canicas

Nombre: \_\_\_\_\_ Fecha: \_\_\_\_\_

• Lee y une con la cifra con la que se corresponda. Copia

- |    |                      |       |
|----|----------------------|-------|
| 56 | • sesenta            | _____ |
| 51 | • cincuenta y tres   | _____ |
| 65 | • sesenta y siete    | _____ |
| 67 | • sesenta y cinco    | _____ |
| 54 | • cincuenta y cinco  | _____ |
| 59 | • cincuenta y uno    | _____ |
| 60 | • sesenta y ocho     | _____ |
| 53 | • cincuenta y cuatro | _____ |
| 68 | • cincuenta y seis   | _____ |
| 55 | • cincuenta y nueve  | _____ |

• Completa

52	5 decenas y 2 unidades	$50 + 2$	cincuenta y dos
61			
66			
57			

• Cuenta hacia atrás

67	66										
----	----	--	--	--	--	--	--	--	--	--	--

• Cálculo mental

	22	35	17	39	42	53	64	51	48	67	55
+2											

• Escribe el número anterior y posterior

	66			53			48			39			50	
--	----	--	--	----	--	--	----	--	--	----	--	--	----	--

• Realiza las siguientes operaciones

$62 + 15 =$


$48 + 41 =$


$36 + 32 =$


$25 + 43 =$


$94 - 62 =$


$68 - 45 =$


$86 - 43 =$


$78 - 53 =$


• Lee el problema, dibújalo y realiza la operación.

Alba ha pescado 18 peces, pero se le han escapado 6. ¿Cuántos peces le quedarán?

	D	U

Le quedaron \_\_\_\_\_ peces

Helena ha soplado una tarta que tenía 7 velas, si se quedan encendidas 3 velas. ¿Cuántas velas ha apagado Helena?

	D	U

Se quedan encendidas \_\_\_\_\_ velas

Nombre: \_\_\_\_\_ Fecha: \_\_\_\_\_

- Lee y une con la cifra con la que se corresponda.

5 decenas y 3 unidades  
3 decenas y 8 unidades  
6 decenas y 4 unidades  
4 decenas y 7 unidades  
3 decenas y 6 unidades  
6 decenas y 8 unidades  
4 decenas y 3 unidades

sesenta y cuatro  
cuarenta y siete  
cincuenta y tres  
sesenta y ocho  
cuarenta y tres  
treinta y ocho  
treinta y seis

- Cuenta de 5 en 5

30	35										
----	----	--	--	--	--	--	--	--	--	--	--

- ¿Cuántos euros son?



\_\_\_\_\_ euros



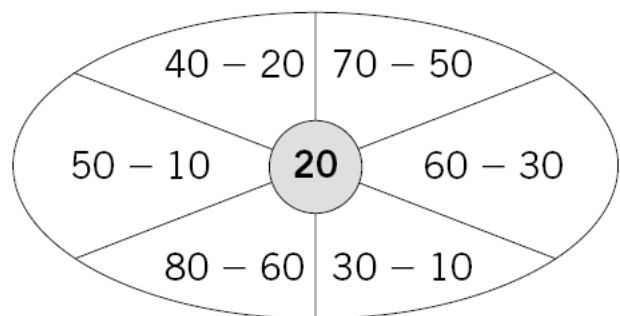
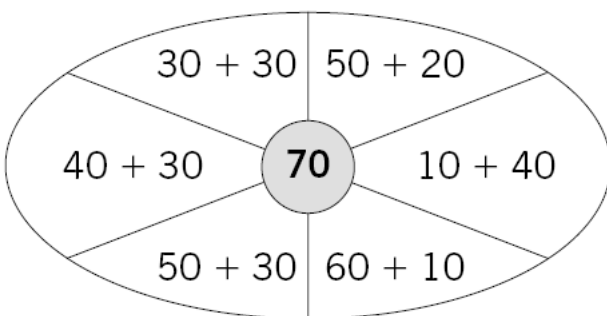
\_\_\_\_\_ euros

- Escribe el número que falta

$6 + \underline{\quad} = 13$        $12 + \underline{\quad} = 18$        $\underline{\quad} + 5 = 11$        $13 + \underline{\quad} = 17$

$3 + \underline{\quad} = 10$        $4 + \underline{\quad} = 13$        $4 + \underline{\quad} = 9$        $15 + \underline{\quad} = 19$

- Colorea las zonas cuyo resultado sea el número del centro



- Realiza las siguientes operaciones

$32+44=$


$28+41=$


$33+25=$


$15+42=$


$74-43=$


$66-25=$


$59-37=$


$68-56=$


- Lee el problema, dibújalo y realiza la operación.

Esther tenía 14 euros en la hucha y su abuelita le da 5 euros. ¿Cuántos euros tiene ahora Esther?

	D	U

Esther tiene \_\_\_\_\_ euros

Xoel tiene 13 cromos y Adrián tiene 5 cromos más que Xoel. ¿Cuántos cromos tiene Adrián?

	D	U

Adrián tiene \_\_\_\_\_ cromos

